

Nombre y apellidos:

Curso:

Grupo:

Fecha:

Controlar la natalidad

A lo largo de la historia, distintas sociedades han impulsado el aumento de la natalidad a través de lo que se conoce como política pronatalista. Así, los Estados podían disponer en un futuro de trabajadores y soldados con los que sostenerse y defenderse. No obstante, en la actualidad, en un mundo cada vez más mecanizado, el exceso de población puede suponer problemas, como en el caso de China, el país más poblado del mundo, que trató de controlar el crecimiento de su población mediante la «política del hijo único».

Lee el siguiente texto y observa las imágenes:

¿Qué competencias vamos a trabajar?

- Comunicación lingüística
- Competencia matemática y competencias básicas en ciencia y tecnología
- Competencia digital
- Aprender a aprender
- Competencias sociales y cívicas

El gobierno chino aprueba oficialmente el final de la política del hijo único

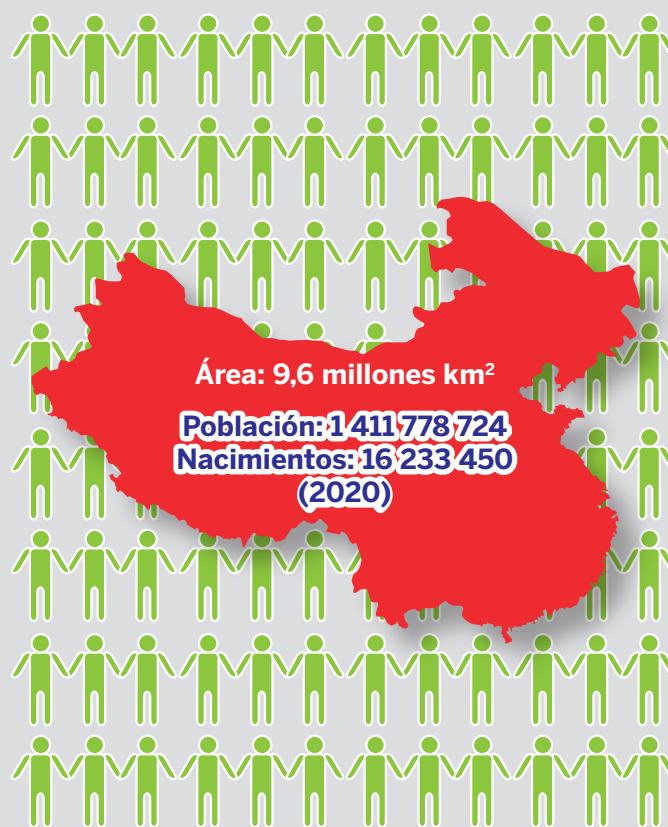
El gobierno chino aprobó hoy la resolución que relaja la controvertida política del hijo único y autorizará a más parejas del país a tener un segundo descendiente. Mediante la reforma legal, las parejas urbanas en las que uno de los cónyuges sea hijo único podrán tener un segundo vástago (antes esto solo se permitía si ni la madre ni el padre tenían hermanos).

[...] Autoridades sanitarias y de planificación chinas calculan que esta reforma hará que nazcan dos millones de niños chinos más cada año, aumentando la cifra total de nacimientos por año.

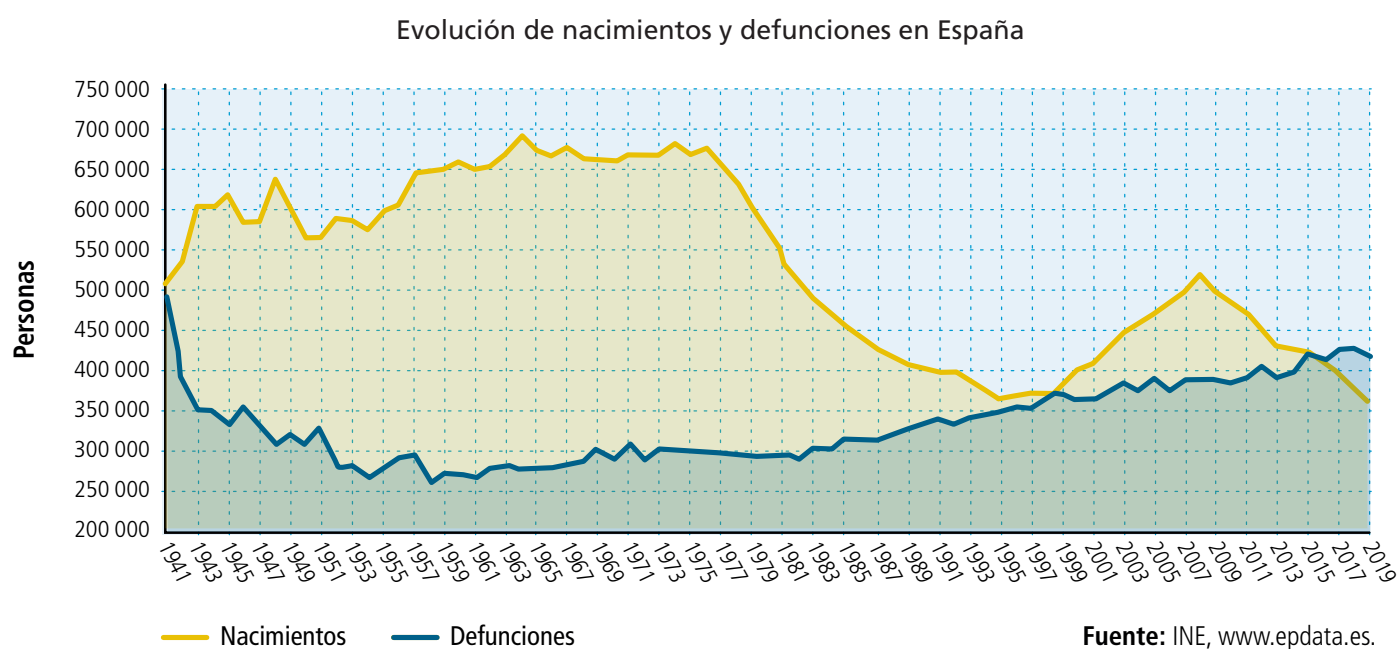
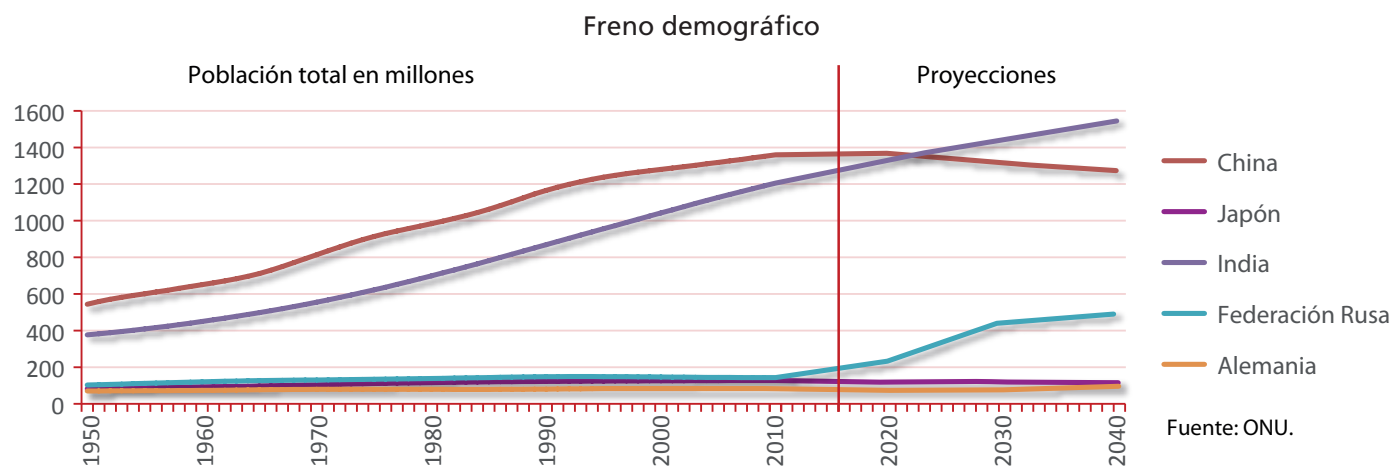
La política del hijo único se inició a finales de los 70 y principios de los 80 para frenar la superpoblación, pero en los últimos años expertos y legisladores chinos han abogado por su relajación, debido a problemas derivados de ella como el rápido envejecimiento poblacional, la falta de mano de obra en zonas industriales como Cantón o el delta del Yangtsé, los abortos selectivos o los abandonos de niñas en áreas rurales.

El gobierno chino argumenta que si la política del hijo único no se hubiera aplicado, actualmente el país acusaría mayores problemas de superpoblación, pues tendría 1700 millones de habitantes, en lugar de los 1400 millones actuales.

Se espera que el país llegue a su pico de población en unas dos décadas y que antes de esto la India, que no impone medidas de control demográfico tan drásticas, le supere como el Estado más poblado del mundo.



Adaptado. Efe: «El gobierno chino aprueba oficialmente el final de la política del hijo único», ABC (28/12/2013).



Tareas propuestas

- A partir del texto, contesta las siguientes preguntas:**
 - ¿Cuándo y por qué se puso en marcha la política del hijo único?
 - ¿Qué efectos negativos ha tenido esta política?
 - ¿Cuáles son las previsiones de los planificadores chinos en cuanto a la natalidad tras la supresión de la política del hijo único?
- Calcula la Tbn de China a partir de los datos recogidos dentro del mapa de la página anterior. A continuación, observa el gráfico sobre el freno demográfico y señala cuánto creció la población china hasta el momento en el que se produjo el descenso de la misma.**
- Observa el gráfico sobre el movimiento de la población española y responde:**
 - ¿Cuál era el crecimiento natural en 2019?
 - ¿Tiene nuestro país el mismo problema que China? Razona tu respuesta teniendo en cuenta el gráfico sobre el movimiento de la población en España y su crecimiento natural.
- Busca información en Internet sobre la conocida como «catástrofe malthusiana», señala en qué consiste y quién la elaboró. ¿Qué opinas al respecto?**

5. Consulta esta noticia sobre las novedades en el control de natalidad de China y contesta a las preguntas: <https://elpais.com/sociedad/2021-05-31/china-permitira-tener-tres-hijos-a-todas-las-parejas-casadas.html>.

- a) ¿Cuáles son los motivos por los que China ha cambiado su política con respecto a la natalidad según la noticia?
- b) Según la opinión pública china, ¿consideras factible que la política oficial de las autoridades chinas pueda hacer aumentar el número de hijos entre las parejas de ese país?
- c) ¿Crees que el aumento de la natalidad solo se puede fomentar con medidas de carácter político y leyes establecidas por los gobiernos? Justifica tu respuesta y presenta algunas alternativas.