

Unidad 9

El reinado de los Reyes Católicos y la conquista de América

1. EL REINADO DE LOS REYES CATÓLICOS

Isabel de Castilla y Fernando de Aragón se casaron y unieron así sus dos reinos. Tras una larga **guerra civil**, en la que intervino Portugal a favor de los enemigos de Isabel, se firmó el **Tratado de Alcáçovas**. A través de él, Isabel y Fernando fueron reconocidos como reyes de Castilla. Además, Portugal obtuvo la exclusividad sobre la costa atlántica africana.



Los Reyes Católicos en el acto de administrar justicia, de Víctor Manzano y Mejorada (1860).

1.1. Política interior

La consolidación de la monarquía autoritaria de los Reyes Católicos se tradujo en:

- ➔ El sometimiento de la **alta nobleza** y de la **Iglesia** al poder real.
- ➔ La conquista del reino musulmán de **Granada** en 1492.
- ➔ La creación del Tribunal de la **Inquisición** (unificación religiosa).
- ➔ La expulsión de los **judíos** en 1492 y de los **musulmanes** de Granada en 1502.

1.2. Política exterior

La política con otros países se llevó a cabo de acuerdo con los intereses de los dos reinos unidos por el matrimonio.

Aragón se centraba en el **Mediterráneo** e **Italia**. Los españoles expulsaron a los franceses de **Nápoles** y la incorporaron a la Corona de Aragón.

[illegible]

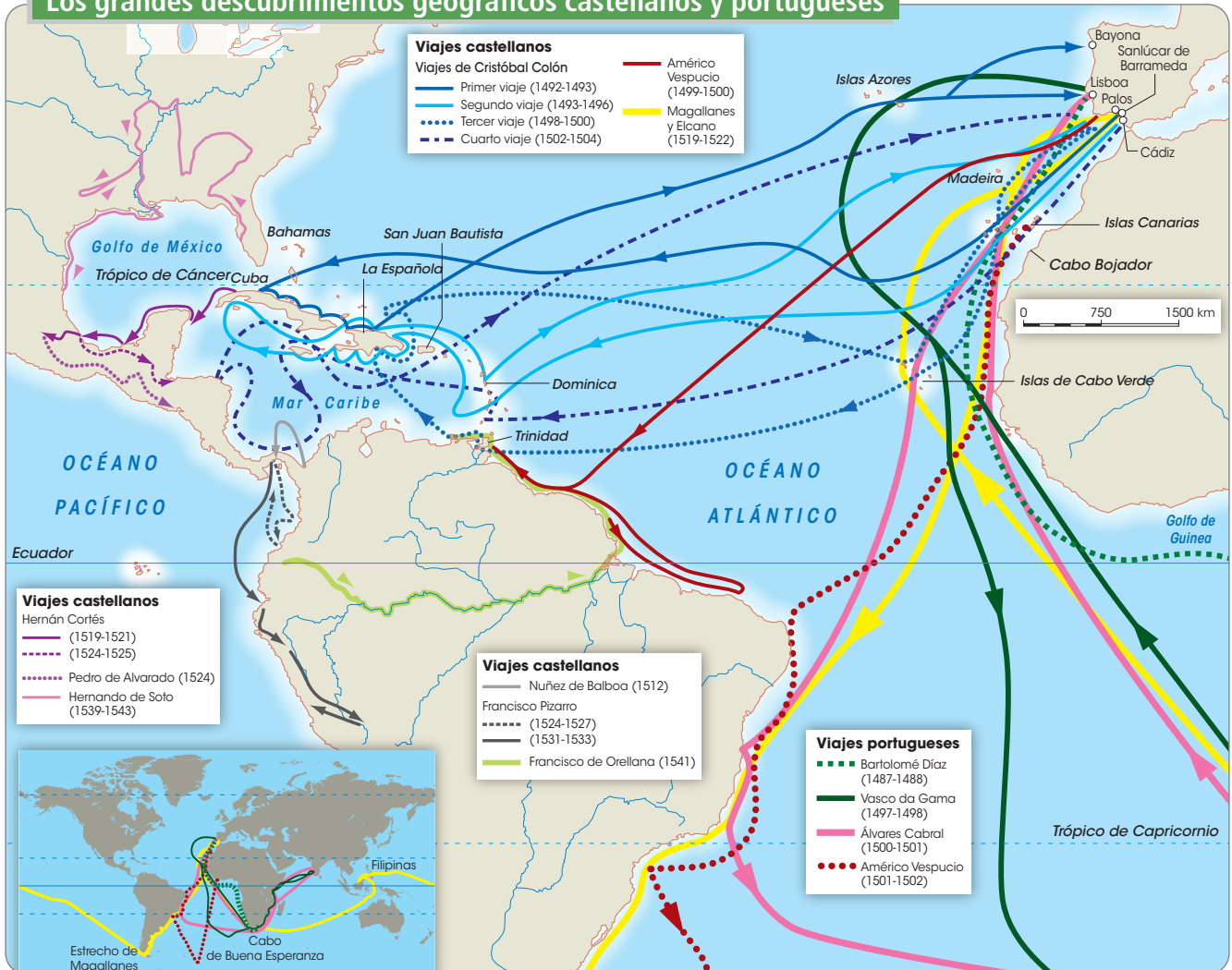
En los **siglos XV y XVI**, Portugal y Castilla llevaron a cabo los mayores descubrimientos geográficos de la historia.

Estos viajes estuvieron motivados por el deseo de abrir **nuevas rutas comerciales** entre Europa y Asia para extender el tráfico de **especias y seda**.

Los **avances técnicos** en los instrumentos de navegación facilitaron la tarea de los descubridores. Portugal y España, las dos potencias marítimas más fuertes, firmaron el **Tratado de Tordesillas**. En él se repartía el mundo entre los dos países:

- ➔ **Portugal:** impulsó la conquista de **Ceuta** y la colonización del **archipiélago de Madeira** y de las **islas Azores**. Bartolomé Díaz alcanzó el **cabo de Buena Esperanza** y Vasco de Gama llegó a **la India**.
- ➔ **Castilla:** Cristóbal Colón, apoyado por Castilla, comandó una expedición de tres naves (la Pinta, la Niña y la Santa María) que alcanzó el archipiélago de las **Bahamas** en 1492. Así comenzó la exploración y colonización del continente americano. Fernando de Magallanes y Juan Sebastián Elcano consiguieron **dar la vuelta al mundo** saliendo desde Sevilla y llegando a tomar posesión de Filipinas.

Los grandes descubrimientos geográficos castellanos y portugueses



Actividades



1. Observa el mapa sobre la expansión extrapeninsular y la política matrimonial de los Reyes Católicos y contesta a las preguntas en tu cuaderno:

- ¿Cuáles eran los intereses de la Corona de Castilla? ¿Y los de la Corona de Aragón?
- Además de los territorios ocupados por los Reyes Católicos, ¿qué otros imperios ocupaban en aquel momento la mayor parte de Europa?
- Según el mapa, ¿a través de qué método se aliaron los reinos de Castilla y Aragón con otros reinos europeos? ¿Con cuáles de ellos?

2. Relaciona estos conceptos sobre los descubrimientos geográficos:

Europa y Asia
Comercio
Avances técnicos
Portugal y España
Magallanes y Elcano

Tráfico de especias y seda.
Instrumentos de navegación.
Abrir nuevas rutas comerciales.
Vuelta al mundo.
Potencias marítimas.

Actividades

3. Une las columnas de la tabla para formar frases completas sobre las características del reinado de los Reyes Católicos:

La unificación religiosa se llevó a cabo	Con los intereses de los dos reinos unidos por el matrimonio.
Los Reyes Católicos fueron monarcas autoritarios	Con la ayuda del Tribunal de la Inquisición.
La política con otros países se llevó a cabo de acuerdo	Que sometieron a la alta nobleza y a los altos cargos de la Iglesia.

4. Observa el mapa de los grandes descubrimientos geográficos castellanos y portugueses y contesta a las preguntas:

- ¿Qué continentes exploraron España y Portugal?
- Describe brevemente la ruta que siguió el viaje de Magallanes y Elcano.

5. Indica si las siguientes afirmaciones son verdaderas o falsas:

	V	F
a) Las tres naves de Colón se llamaban la Niña, la Pinta y la Santa María.		
b) La expedición de Magallanes y Elcano salió del puerto de Sevilla.		
c) Portugal impulsó la conquista de Melilla.		
d) Los españoles expulsaron a los alemanes de Nápoles.		

3. CONQUISTA Y COLONIZACIÓN DE AMÉRICA

3.1. La conquista española de América

La conquista española se caracterizó por la superioridad militar, la participación de un número reducido de conquistadores y la alianza con diversos pueblos indígenas. Así se logró conquistar civilizaciones como:

- **El Imperio azteca** (1519-1521). **Hernán Cortés** se alió con pueblos rivales de los aztecas, engañó a su emperador **Moctezuma** y tomó posesión de la capital del Imperio.
- **Imperio inca** (1531-1533). **Francisco Pizarro** aprovechó la guerra civil que sufría el Imperio, apresó y ejecutó al emperador **Atahualpa** y tomó posesión de la capital.



3.2. La conquista portuguesa de América

Por el **Tratado de Tordesillas** correspondía a Portugal ocupar Brasil. En 1530 comenzó su dominación efectiva, expulsando a los franceses de aquella zona para comenzar a lucrarse con el negocio de la **caña de azúcar**.

3.3. La colonización española y portuguesa

La conquista del continente supuso la ocupación por parte de la **población peninsular** de los territorios conquistados en el Nuevo Mundo y la **alteración** de las formas de vida de sus habitantes.

En primer lugar, se produjo una **grave crisis demográfica** entre los indígenas, debido a la transmisión de enfermedades nuevas para ellos (gripe, sarampión, viruela). Además, se impuso **la lengua y la religión de los conquistadores**. La colonización permitió la introducción de nuevos **productos vegetales** en Europa como la patata, el tomate o el maíz.



3.4. Papel de Andalucía en la conquista y colonización de América

Andalucía desempeñó un papel muy importante en la conquista y colonización del continente americano. Este protagonismo se basó en tres **factores**:

- ➔ Los **vientos y corrientes** desde nuestras costas favorecían las travesías de ida y retorno.
- ➔ **Nuestras costas eran más seguras** que las de otros lugares, que se encontraban plagadas de piratas.
- ➔ El **valle del Guadalquivir** era una zona con una gran riqueza agrícola.

Tras el descubrimiento, **Sevilla** se convirtió en el único puerto de la Península desde el cual se podían mandar y recibir barcos desde América. Gracias al comercio americano, Sevilla y Andalucía adquirieron un importante desarrollo económico y demográfico. El trabajo artesanal también experimentó un fuerte crecimiento.

Muchos andaluces vieron en la **emigración al nuevo continente** una aventura, además de una oportunidad para enriquecerse y liberarse de la rigidez de la sociedad estamental castellana.



Real Monasterio de Santa María de La Rábida (Palos de la Frontera, Huelva), lugar donde Cristóbal Colón encontró refugio y apoyo años antes de partir al descubrimiento de América.



Grupo escultórico que representa a Isabel la Católica y Colón en el momento de acordar las Capitulaciones de Santa Fe (Granada).

Actividades

6. Relaciona las tres columnas para formar frases completas:

Hernán Cortés	Aprovechó la guerra civil	Debido a la transmisión de nuevas enfermedades.
Francisco Pizarro	Encabezó la conquista del	Para conquistar el Imperio inca.
La colonización de América	Sevilla se convirtió en el único puerto de la Península	Imperio azteca.
Tras el descubrimiento	Produjo una grave crisis demográfica entre los indígenas	Desde el cual se podían mandar y recibir barcos desde América.

7. Observa el mapa sobre la conquista española de América y responde a las preguntas:

- ¿A qué época se refiere el mapa?
- ¿A qué corresponde el color amarillo? ¿Y el color rojo?

8. Completa las siguientes afirmaciones:

- La _____ española se caracterizó por la _____ militar.
- Por el _____ de Tordesillas correspondía a _____ ocupar Brasil.
- La colonización permitió la introducción de nuevos productos _____ en _____ como la patata, el _____ o el maíz.
- Muchos andaluces vieron en la _____ al nuevo _____ una aventura.

9. Define estos términos: conquista, colonización, crisis demográfica, emigración.

10. Indica la palabra que sobra en cada caso:

- Inca, Pizarro, Atahualpa, Cortés.
- Cortés, azteca, Moctezuma, Inca.
- Gripe, sarampión, Tordesillas, viruela.
- Tomate, maíz, patatas, Sevilla.

4. ECONOMÍA, SOCIEDAD Y CULTURA EN LA ESPAÑA DE LOS REYES CATÓLICOS

4.1. Características económicas

En Castilla destacó la ganadería ovina y la venta de lana al norte de Europa, lo que se tradujo en numerosas ventajas para los ganaderos (asociados en la Mesta).

El descubrimiento de América convirtió a Sevilla en el principal puerto atlántico de la Corona de Castilla, desde el que se exportaban productos agrícolas con destino a las colonias americanas, estimulando el desarrollo agrícola del valle del Guadalquivir.

En cuanto a la Corona de Aragón, Valencia se convertiría en el principal puerto mediterráneo a raíz de la crisis sufrida por Barcelona.

4.2. Características demográficas y sociales

Tras la conquista de Granada y la anexión de Navarra, la Monarquía Hispánica alcanzaría los 5,1 millones de habitantes, aunque la expulsión de los judíos (en 1492) y de los mudéjares (en 1502) supuso la pérdida de más de 200 000 habitantes.

La sociedad siguió siendo piramidal:

Estamento eclesiástico	<ul style="list-style-type: none"> • Dueño de extensas propiedades. • Colaboraba estrechamente con el poder real.
Estamento nobiliario	<ul style="list-style-type: none"> • Vio disminuido su poder político en beneficio del aumento de su capacidad económica y social gracias a la institución del mayorazgo. • Destacó la nobleza titulada gracias a su control de la tierra y del desempeño de altos cargos en el ejército y en la jerarquía eclesiástica.
Tercer estado	<ul style="list-style-type: none"> • Formado mayoritariamente por campesinos, sobre los que pesaba el sostenimiento económico de la Monarquía Hispánica.


4.3. La cultura y el arte

El arte se caracterizó por la pervivencia del gótico, al que habría que añadir la influencia del arte mudéjar y del arte renacentista italiano. Cabe destacar la fachada del Colegio de San Gregorio, así como el palacio de Santa Cruz, ambas obras localizadas en Valladolid. Además, en 1506 se culminaba la construcción de la catedral de Sevilla, el templo gótico más grande del mundo, que seguiría recibiendo añadidos y modificaciones.

Bajo el impulso del cardenal Cisneros se fundó la Universidad Complutense o de Alcalá, con un plan de estudios influido por el humanismo. Por su parte, en 1492 se publicaba la *Gramática castellana*, obra de Antonio de Nebrija, siendo la primera obra dedicada al estudio de la lengua castellana.



Retablo del Altar Mayor de la Catedral de Sevilla.



Actividades

11. ¿Qué actividad económica recibió un fuerte impulso?
12. ¿Cómo afectó el descubrimiento de América a Andalucía?
13. Copia y completa este cuadro sobre la sociedad en el reinado de los Reyes Católicos:

Estamento eclesiástico	
Estamento nobiliario	
Tercer estado	

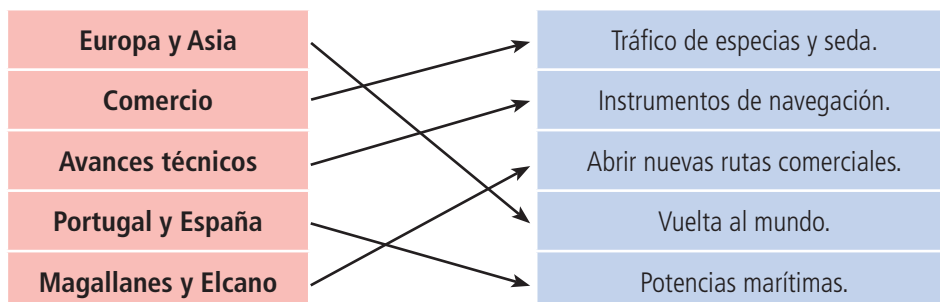
14. Cita dos obras de arte del periodo de los Reyes Católicos.

Solucionario

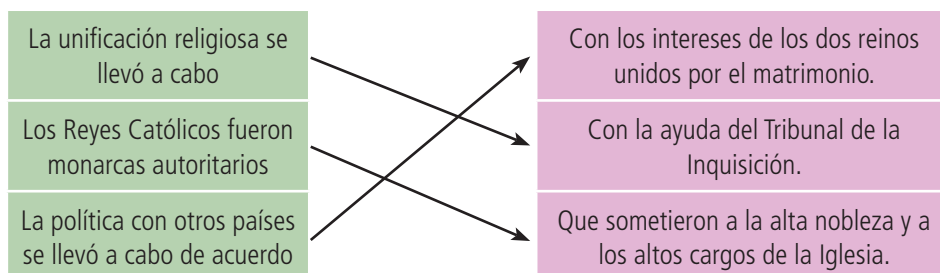
1. Observa el mapa sobre la expansión extrapeninsular y la política matrimonial de los Reyes Católicos y contesta a las preguntas en tu cuaderno:

- Los de Castilla estaban en el norte y centro de Europa, además de norte de África. Los de Aragón en el Mediterráneo.
- Imperio otomano y Sacro Imperio Romano Germánico.
- A través de la política matrimonial. Con Portugal, Inglaterra, Austria y Casa de Borgoña.

2. Relaciona estos conceptos sobre los descubrimientos geográficos:



3. Une las columnas de la tabla para formar frases completas sobre las características del reinado de los Reyes Católicos:



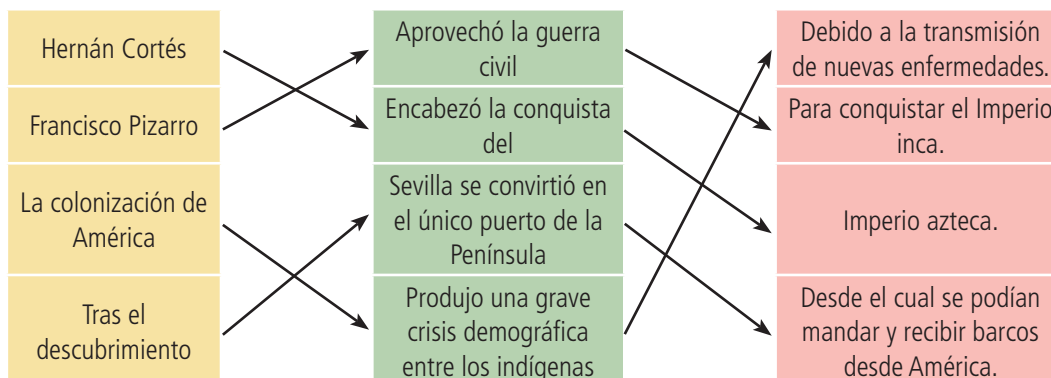
4. Observa el mapa de los grandes descubrimientos geográficos castellanos y portugueses y contesta a las preguntas:

- América, África y Asia.
- Salió de España cruzando el océano Atlántico hacia las costas del actual Brasil. Desde allí siguió navegando al sur hasta el estrecho de Magallanes, donde la expedición cruzó hacia el Pacífico. Cruzó todo el Pacífico hasta llegar a Filipinas, desde donde cruzando el Índico llegó al sur de África (cabo de Buena Esperanza). Desde allí siguió al norte hasta regresar a España.

5. Indica si las siguientes afirmaciones son verdaderas o falsas:

	V	F
a) Las tres naves de Colón se llamaban la Niña, la Pinta y la Santa María.	X	
b) La expedición de Magallanes y Elcano salió del puerto de Sevilla.	X	
c) Portugal impulsó la conquista de Melilla.		X
d) Los españoles expulsaron a los alemanes de Nápoles.		X

6. Relaciona las tres columnas para formar frases completas:



7. Observa el mapa sobre la conquista española de América y responde a las preguntas:

- Al siglo XVI. Edad Moderna.
- A los territorios incas conquistados por los españoles. A los territorios aztecas conquistados por los españoles.

8. Completa las siguientes afirmaciones:

- Conquista, superioridad.
- Tratado, Portugal.
- Vegetales, Europa, tomate.
- Emigración, mundo.

9. Define estos términos: conquista, colonización, crisis demográfica, emigración.

Conquista: ocupación militar y violenta de un territorio.

Colonización: tras la conquista de un territorio, se produce su ocupación por parte de la población conquistadora.

Crisis demográfica: reducción muy importante de la población de un lugar.

Emigración: traslado de población de una zona a otra (país, región, etc.)

10. Indica la palabra que sobra en cada caso:

- Cortés.
- Moctezuma.
- Tordesillas.
- Sevilla.

11. ¿Qué actividad económica recibió un fuerte impulso?

La ganadería ovina y la venta de lana.

12. ¿Cómo afectó el descubrimiento de América a Andalucía?

Se estimuló el desarrollo agrícola del valle del Guadalquivir.

13. Copia y completa este cuadro sobre la sociedad en el reinado de los Reyes Católicos:

Estamento eclesiástico	<ul style="list-style-type: none"> • Dueño de extensas propiedades. • Colaboraba estrechamente con el poder real.
Estamento nobiliario	<ul style="list-style-type: none"> • Vio disminuido su poder político en beneficio del aumento de su capacidad económica y social gracias a la institución del mayorazgo. • Destacó la nobleza titulada gracias a su control de la tierra y del desempeño de altos cargos en el ejército y en la jerarquía eclesiástica.
Tercer estado	<ul style="list-style-type: none"> • Formado mayoritariamente por campesinos, sobre los que pesaba el sostenimiento económico de la Monarquía Hispánica.

14. Cita dos obras de arte del periodo de los Reyes Católicos.

Respuesta libre. Vale cualquier combinación de las expuestas en el texto.