

Unidad 7

La evolución de los reinos cristianos peninsulares en la Edad Media

1. LA FORMACIÓN DE LOS REINOS CRISTIANOS

Cuando los musulmanes invadieron la Península, **algunos hispano visigodos se refugiaron en el norte peninsular y crearon dos focos de resistencia** frente a los invasores, uno en la cordillera Cantábrica y otro al sur de los Pirineos, que más tarde dieron lugar a los diferentes reinos cristianos.

1.1. Evolución de los reinos cristianos

a) El reino astur-leonés

En el 722 los asturianos derrotaron a los musulmanes en la **batalla de Covadonga**, comenzando así el proceso de Reconquista cristiana. Se forma así un **reino cristiano en Asturias**. Para controlar mejor los nuevos territorios, los reyes trasladaron la capital de Oviedo a León (reino de León).

La expansión cristiana se frenó en el siglo X, pues los califas cordobeses fortalecieron su gobierno y atacaron algunas ciudades leonesas. La frontera oriental este del reino comenzó a fortificarse con castillos, por lo que esta región recibió el nombre de **Castilla**.

b) El reino de Navarra

Los vascones tuvieron que luchar contra los musulmanes y los francos, creando el reino de Navarra. Este reino no pudo crecer territorialmente porque la expansión de los reinos vecinos (Castilla y Aragón) lo impidió.

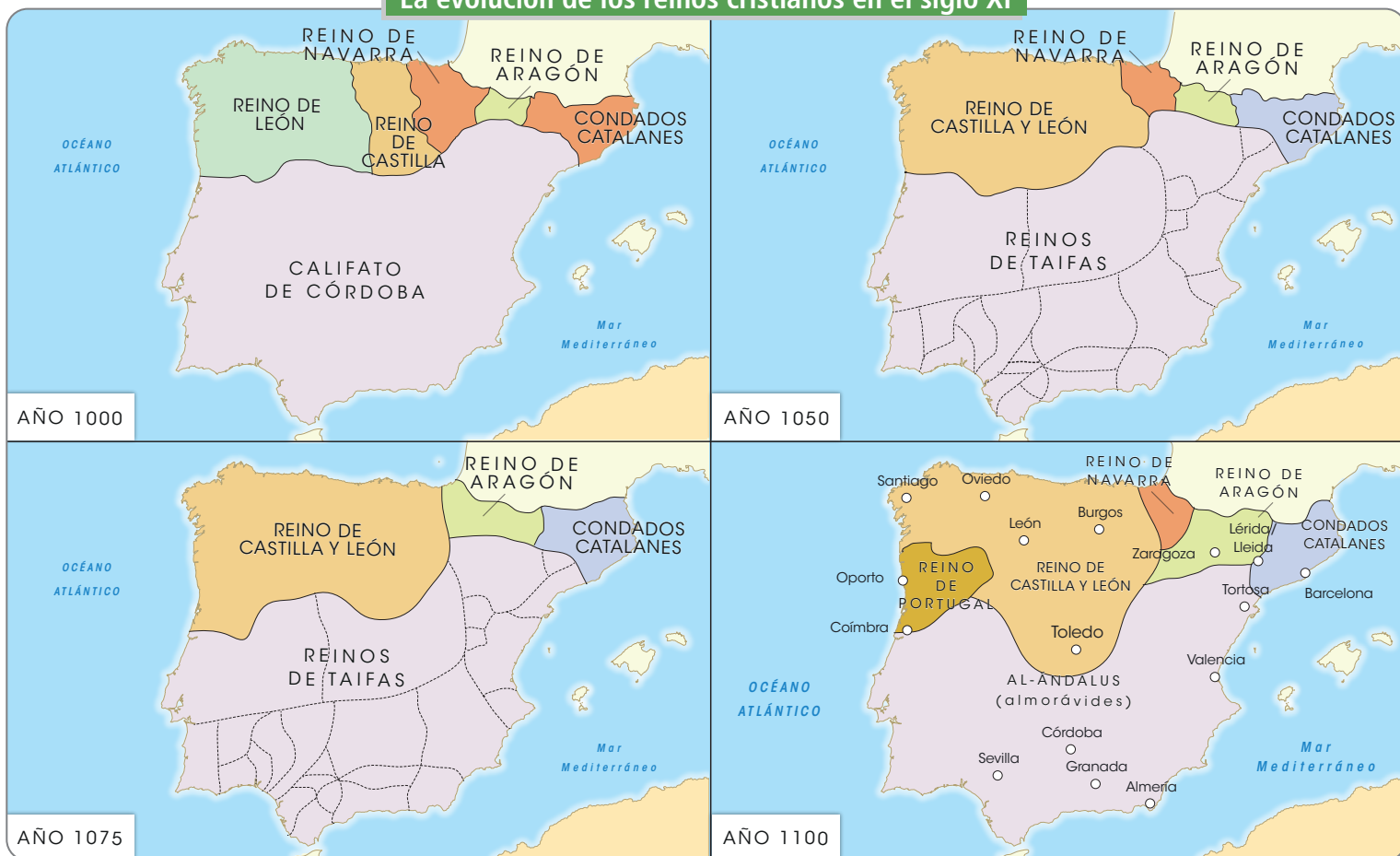
c) Aragón y los condados catalanes

Los territorios aragoneses fueron parte primero del reino franco y luego del reino de Navarra, hasta que en el siglo XI consiguieron su independencia. Por otro lado, los condados catalanes fueron parte de la Marca Hispánica creada por Carlomagno hasta que en el siglo X se independizaron.



Don Pelayo, primer rey de Asturias.

La evolución de los reinos cristianos en el siglo XI



Actividades

1. ¿De qué reino cristiano estamos hablando? Lee las siguientes frases y escribe a qué reino se refieren:
 - a) Su frontera oriental se fortificó con una línea de castillos.
 - b) Formó parte de la Marca Hispánica de Carlomagno.
 - c) Se independizó del reino de Navarra primero y del reino franco después.
 - d) La expansión de los reinos vecinos impidió su crecimiento.
2. Observa los mapas de la evolución de los reinos cristianos y contesta a las preguntas:
 - a) MAPA 1. ¿Qué territorio ocupaba la mayor parte de la Península en el año 1000? ¿Cuántos reinos cristianos había entonces? ¿Cuál era el más grande de estos reinos?
 - b) MAPA 2. ¿Qué ha ocurrido con el califato en el año 1050? ¿Qué reinos cristianos están unidos ahora?
 - c) MAPA 3. ¿Qué reino cristiano se ha expandido más a finales del siglo XI? ¿Qué le ha ocurrido al reino de Navarra?
 - d) MAPA 4. ¿Quiénes ocupan en el 1100 el territorio de al-Ándalus? ¿Qué nuevo reino ha surgido al oeste de la Península?

3. Completa las siguientes afirmaciones:

- a) Cuando los musulmanes _____ la Península, algunos hispano visigodos se _____ en el _____ peninsular.
- b) En el 722 los _____ derrotaron a los musulmanes en la batalla de _____.
- c) Los _____ tuvieron que luchar contra los musulmanes y los _____.
- d) Los territorios _____ fueron parte primero del reino _____ y luego del reino de Navarra.

4. Escribe un texto de tres o cuatro líneas sobre la evolución de los reinos cristianos.

5. Construye una frase con cada una de estas palabras: reino, batalla, frontera e independencia.

2. LA EXPANSIÓN DE LOS REINOS CRISTIANOS EN LA PENÍNSULA IBÉRICA

La expansión de los territorios cristianos en la península ibérica se caracterizó por **continuas y numerosas divisiones, uniones y anexiones entre los diferentes reinos y condados**.

2.1. Sancho III el Mayor y el reino de Pamplona (Navarra)

La entronización de **Sancho III el Mayor** como rey de Pamplona, en 1004, convirtió a este reino en **el más poderoso de los reinos cristianos peninsulares** al anexionarse los condados de Castilla, Aragón, Sobrarbe y Ribagorza, someter al reino de León y extender su autoridad a los condados catalanes.

2.2. El nacimiento de los reinos de Castilla y Aragón

La muerte de Sancho III en 1035 supuso la división de su reino entre sus hijos, así como el nacimiento de los dos grandes reinos cristianos que protagonizarán la Reconquista a partir de mediados del siglo XI, (Castilla y Aragón):

García	Obtuvo el reino de Pamplona.
Fernando	Recibió Castilla, convirtiéndose así en su primer monarca (Fernando I).
Gonzalo	Heredó Sobrarbe y Ribagorza.
Ramiro	Obtuvo Aragón, convirtiéndose en su primer rey (Ramiro I).

Más adelante, **Ramiro I de Aragón se anexionaría los reinos de Sobrarbe y Ribagorza**, mientras que, durante el reinado de **Fernando I** se produciría la **unión entre Castilla y León**. Por su parte, a finales del siglo IX, **Wifredo el Velloso**, conde de Barcelona, logró **unificar los condados catalanes**, que se independizaron definitivamente del control franco a finales del siglo X, con Borrell II.

2.3. La expansión cristiana de los siglos XI y XII

La **desintegración del califato de Córdoba** en reinos de taifas en 1031 **facilitó la labor reconquistadora de los reinos cristianos**. En estos siglos sobresalen los siguientes reyes cristianos:

- ➔ **Alfonso VI de Castilla y León**, quien logró extender la presencia castellano-leonesa **hasta la línea del Tajo** tras conquistar Toledo en 1085. Por ello, los reyes taifas solicitaron ayuda a los almorávides, musulmanes del norte de África.
- ➔ **Alfonso I el Batallador de Aragón**, quien extendió la presencia aragonesa **hasta el valle del Ebro** tras la conquista de Zaragoza en 1118. El **nacimiento de la Corona de Aragón** se produce con la unión del condado de Barcelona y del reino de Aragón en la figura de Alfonso II, hijo de la reina de Aragón Petronila I y de Ramón Berenguer IV, conde de Barcelona.

2.4. La gran expansión cristiana del siglo XIII

A mediados del siglo XII, **los almohades reemplazaron a los almorávides** en el territorio peninsular, frenando nuevamente la expansión militar cristiana con la derrota castellano-leonesa en la batalla de Alarcos de 1195. No obstante, la amenaza almohade sobre Toledo llevó al papa a promulgar el decreto de cruzada, posibilitando la formación de una **coalición de reinos cristianos peninsulares** que vencieron a los musulmanes en la **batalla de Las Navas de Tolosa** (actual Santa Elena, Jaén), en 1212, lo que propició la conquista del valle del Guadalquivir por parte del rey Fernando III en décadas posteriores.



3. LA REPOBLACIÓN

La repoblación supuso la **ocupación y puesta en explotación de las tierras ocupadas o conquistadas** a los musulmanes por los cristianos con el objetivo de garantizar su dominio y anexión. Podemos distinguir los siguientes tipos de repoblación:

Siglos VIII y X. Presura	Se desarrolló a lo largo del valle del Duero y el sur de los Pirineos. La repoblación fue libre y de manera privada, siguiendo la modalidad presura o aprisio , según la cual, aquellas personas (campesinos libres, nobles y eclesiásticos) que ocupaban y ponían en explotación un terreno se convertían automáticamente en sus dueños.
Siglos XI y XII. Repoblación concejil	Los cristianos se extendieron hasta la línea del Tago y el valle del Ebro como consecuencia de la desintegración del poder califal. Se estableció la repoblación concejil , por la que los reyes dividían los territorios ocupados en concejos, que eran grandes extensiones de terreno con una aldea o ciudad como núcleo principal a la que se otorgaba un fuero o carta puebla, documento por el que se concedían privilegios a los repobladores.
Primera mitad del siglo XIII. Repoblación por las órdenes militares	Entrega de grandes extensiones de terreno a las órdenes militares de Santiago, Calatrava y Alcántara al norte de Sierra Morena por su participación en el gran avance reconquistador. Ante la escasez de población por la huida o expulsión de los musulmanes residentes, esas tierras se dedicaron a la ganadería ovina principalmente.
Segunda mitad del siglo XIII. Repoblación por repartimiento	Desintegración del poder almohade en la península ibérica. La repoblación del valle del Guadalquivir y del Levante se realizó en repartimientos , ofreciéndose lotes de tierra y casas a los repobladores según su papel en la conquista, por lo que la nobleza consiguió grandes extensiones de terreno. Al ser una tierra fronteriza y peligrosa por su proximidad con el reino musulmán de Granada, la monarquía hizo concesiones mediante, de nuevo, el otorgamiento de cartas puebla y de fueros para atraer población.

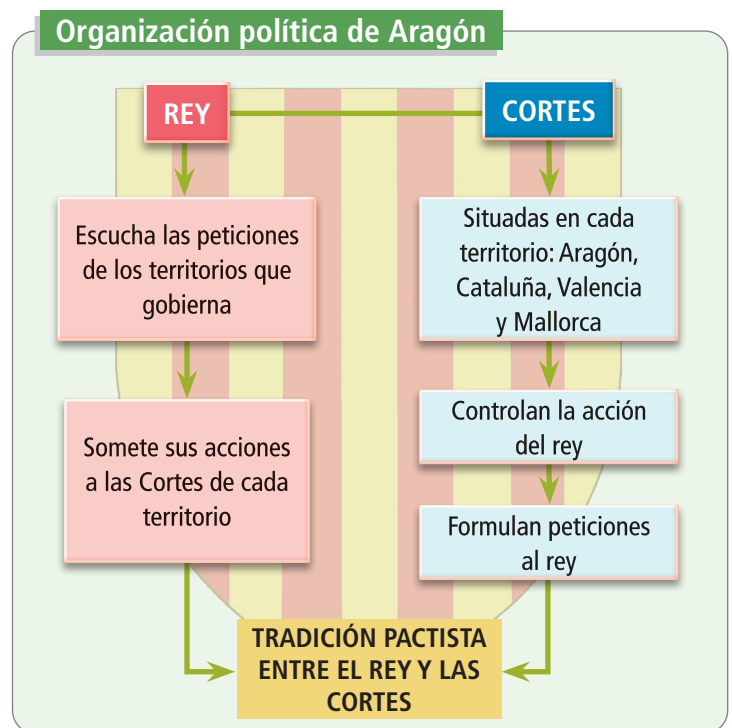
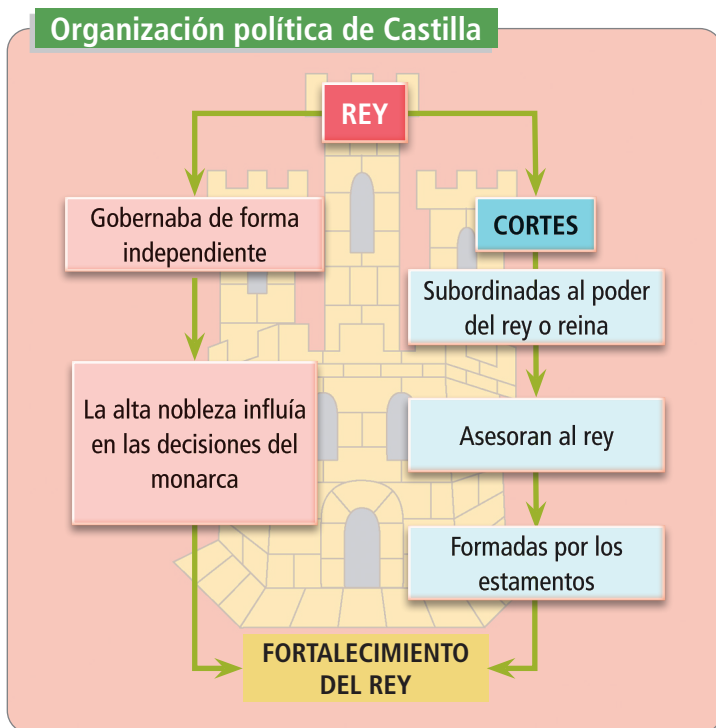


4. CARACTERÍSTICAS POLÍTICAS, ECONÓMICAS Y SOCIALES DE LOS REINOS CRISTIANOS PENINSULARES

4.1. La organización política

Los territorios cristianos eran gobernados por **condes o reyes** que actuaban como jefes militares. Los **reyes** tenían un consejo real para ayudarles. En algunos territorios los reyes dejaron el gobierno en manos de altos nobles que en la práctica fueron casi independientes, como ocurrió en el condado de Castilla y en el de Portugal, que acabaron independizándose de sus respectivos reinos.

En los siglos XIV y XV **los reyes cristianos fortalecieron su poder**, especialmente en Castilla. Por el contrario en la **Corona de Aragón** se siguió la tradición pactista, por la cual el rey debía tener en cuenta los deseos de los territorios que gobernaba (Aragón, Mallorca, Valencia y Cataluña).



4.2. Características sociales

La sociedad cristiana peninsular se caracterizaba por la **organización piramidal de la población** (en cuya cumbre se encontraba el rey o reina), mediante un estricto sistema de fidelidades y lealtades y de acuerdo con los servicios y trabajos desempeñados por cada uno de sus miembros; es decir, era de tipo feudal:

Grupo privilegiado

La nobleza	
La alta nobleza (o ricos hombres)	Dueña de grandes señoríos (feudos), cuyos territorios controlaba y administraba desde sus castillos y residencias fortificadas, y que legaba a sus hijos primogénitos. El rey y la reina pertenecían a la alta nobleza.
La pequeña nobleza (o fijosdalgo)	Estaba formada por segundones de familias nobles que se veían obligados a formar parte de las huestes o mesnadas de otro señor.
El clero	
Alto clero	Compuesto por miembros procedentes de la nobleza que ocupaban puestos destacados dentro de la jerarquía eclesiástica (obispos, abades).
Bajo clero	Constituido por personas procedentes de los sectores más humildes de la sociedad (curas, monjes), con unas condiciones de vida no muy diferentes a las de estos.

Grupo no privilegiado

Constituía la mayoría de la población cristiana, **integrada fundamentalmente por campesinos** (libres y siervos) y, sobre todo a partir del resurgimiento urbano de finales del siglo XII, por artesanos, comerciantes, prestamistas y profesionales liberales (médicos, abogados, etc.), además de por gente de condición marginal (vagabundos, bandoleros).

4.3. Características económicas

En los reinos cristianos predominaba una **economía rural de subsistencia**, con un comercio reducido a intercambios locales o comarcales, realizados muchas veces en forma de trueque (no se utilizan monedas sino que se intercambian productos). Ello provocó el abandono de muchas ciudades.

La principal unidad de producción era el **feudo**, en el cual vivían los campesinos a cambio del pago de unas rentas en especie y en trabajo al señor feudal. La **agricultura** utilizaba técnicas y herramientas antiguas y podía ser de secano (cereales, vid) o de regadío (verduras y frutas). En la **ganadería** destacaban:

- ➔ El **ganado ovino** para obtener carne y lana.
- ➔ El **ganado vacuno** para obtener carne y por su fuerza de trabajo.
- ➔ El **ganado porcino** para obtener carne.

La **economía** de estos reinos mejoró gracias a las grandes conquistas del siglo XIII y el cobro de parias (impuestos) a los musulmanes. Además se establecieron relaciones comerciales con los puertos del norte de Europa, a los que se exportaba sobre todo lana y se importaban productos textiles elaborados. Ello implicó un gran desarrollo de la ganadería ovina en la **Corona de Castilla**. Por su parte, la **Corona de Aragón** aumentó su actividad comercial gracias a la conquista de territorios en el Mediterráneo central. La permanencia de poblaciones de origen musulmán permitió el mantenimiento de una agricultura de regadío muy productiva.

Actividades

6. Completa la siguiente tabla sobre las características económicas de los reinos cristianos:

	Economía de los reinos cristianos
Agricultura	
Ganadería	
Comercio	

7. Relaciona los conceptos de estas columnas:

Privilegiados	Alta nobleza.	Dueña de grandes señoríos.
No privilegiados	Campesinos.	Curas y monjes.
	Bajo clero.	Era la mayoría de la población.
	Alto clero.	Obispos y abades.

8. Indica la palabra que sobra en cada caso:

- a) Privilegiados, nobleza, clero, feudo.
- b) No privilegiados, artesanos, campesino, pórtico.
- c) Rey, agricultura, ganadería, regadío.

9. Elige la opción correcta:

- a) Los territorios cristianos eran gobernados por condes o:
 - a. Duques.
 - b. Reyes.
 - c. Marqueses.
- b) La sociedad cristiana era de tipo:
 - a. Feudal.
 - b. Igualitario.
 - c. Democrático.
- c) La principal unidad de producción era:
 - a. La comarca.
 - b. La provincia.
 - c. El feudo.
- d) A partir del siglo XI la repoblación fue:
 - a. Concejil.
 - b. Libre.
 - c. Compleja.

10. Ordena estas frases para que tengan sentido:

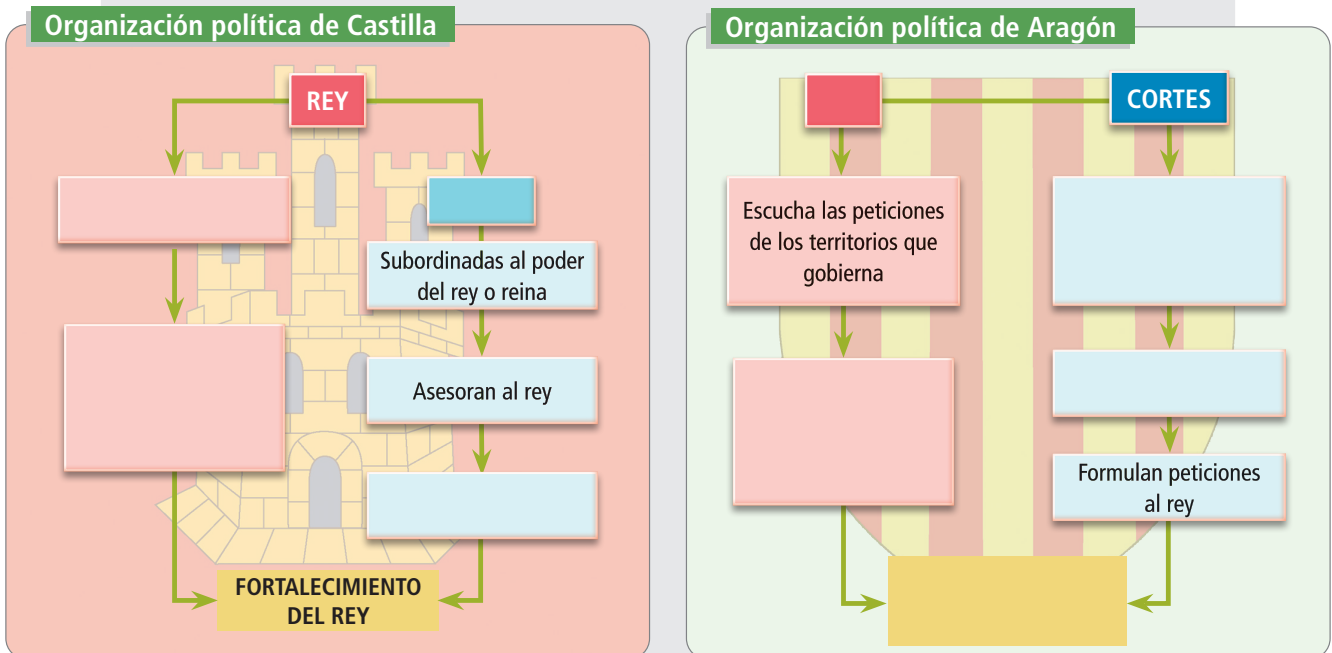
- a) Grupo privilegiados minoritario eran el los.
- b) Técnicas herramientas y antiguas agricultura la utilizaba.
- c) Dividían reyes los territorios concejos en ocupados los.

11. Une los siguientes territorios con las Coronas que los conquistaron:

Corona de Castilla	Valencia
Portugal	Islas Baleares
Corona de Aragón	Valle del Guadalquivir
	Murcia
	Extremadura
	Faro

Actividades

12. Completa el siguiente esquema sobre las características de la organización política de las Coronas de Castilla y Aragón durante la Baja Edad Media:



13. Observa el mapa sobre las repoblaciones y contesta a las preguntas:

- Indica qué ciudades fueron repobladas por las órdenes militares en la 1.ª mitad del siglo XIII.
- Enumera las ciudades que fueron repobladas por repartimientos en la 2.ª mitad del siglo XIII.

14. Elige la opción correcta en cada caso:

- Los reyes taifas solicitaron ayuda a los:
 - Almohades.
 - Almorávides.
 - Bárbaros.
- Las órdenes militares recibieron grandes cantidades de tierras en:
 - En el norte de Sierra Morena.
 - Al sur de Sierra Morena.
 - Al este de Sierra Morena.
- La economía de los reinos cristianos mejoró gracias a las conquistas del siglo:
 - XIV.
 - XV.
 - XIII.
- La pequeña nobleza estaba formada por:
 - Sacerdotes.
 - Segundones de familias nobles.
 - Campesinos.

15. Define los siguientes términos: parias, taifas, repartimientos, repoblación.

5. LA CRISIS DE LA BAJA EDAD MEDIA EN LAS CORONAS DE CASTILLA Y ARAGÓN

Los efectos de la crisis de los siglos XIV y XV se dejaron sentir de manera desigual en las Coronas de Castilla y Aragón:

- ➔ En **Castilla** los señores feudales aumentaron las rentas señoriales, provocando el descontento de los campesinos. Además se produjo una guerra civil entre Pedro I y su hermano Enrique de Trastámara.
- ➔ En **Aragón** el descontento campesino provocó la guerra de los Remensas. También se produjo un conflicto entre la *Busca* (mercaderes y artesanos) y la *Biga* (grandes comerciantes y banqueros) por el control de la ciudad de Barcelona.

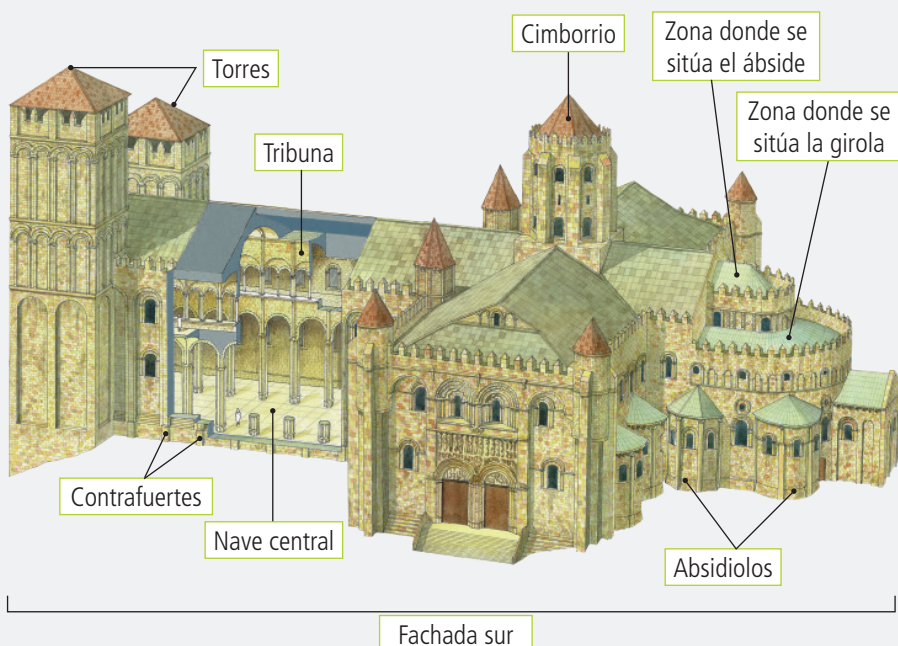
6. CULTURA Y ARTE

6.1. El románico

El arte románico se extendió por la península ibérica a través del **Camino de Santiago** (ruta religiosa por la que transitaban multitud de personas, peregrinos, que iban a Santiago de Compostela), aunque sus primeras manifestaciones aparecieron en Cataluña. El edificio más importante del románico español es la **catedral de Santiago de Compostela**, que sigue la estructura de las iglesias de peregrinación románicas.

En la **escultura** y la **pintura** románicas los temas más representados fueron el Juicio Final y el Pantócrator. Los ejemplos más sobresalientes son el Pórtico de la Gloria de Santiago de Compostela y el Pantócrator de San Clemente de Tahull.

Elementos arquitectónicos románicos en la catedral de Santiago de Compostela



6.2. El gótico

El **arte gótico** alcanzó un gran desarrollo en estos siglos en ambas Coronas. En **Aragón** destacan las catedrales de Barcelona y Palma de Mallorca, junto a edificios civiles como ayuntamientos, lonjas y palacios. En **Castilla** el edificio más importante es la catedral de Sevilla. En escultura son notables los retablos y monumentos funerarios (tumbas), mientras que la pintura recibe la influencia de los primitivos flamencos.

Junto a la arquitectura gótica hay que destacar la arquitectura **mudéjar**, caracterizada por el empleo de elementos de la arquitectura **islámica** en la construcción de edificios.



Interior de la catedral de Sevilla.



Monumento funerario del *Doncel de Sigüenza*.

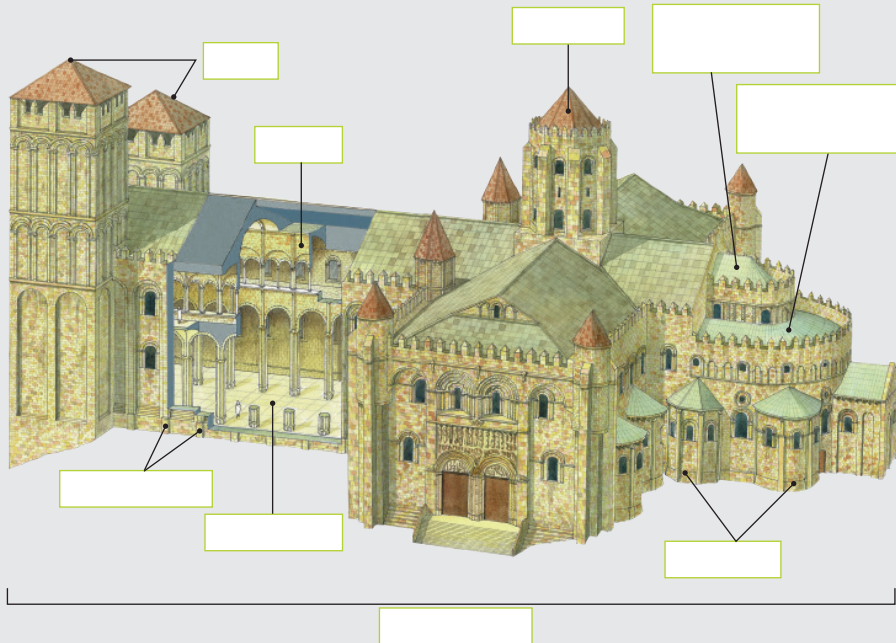


Portada de la Montería del Palacio de Pedro I el Cruel, en el Real Alcázar de Sevilla (arte mudéjar).

Actividades



16. Escribe sobre la ilustración de la catedral de Santiago de Compostela el nombre de los diferentes elementos románicos:



17. Completa el siguiente texto sobre el arte gótico:

El arte _____ alcanzó un gran desarrollo en estos siglos en ambas coronas. En Aragón destacan las _____ de Barcelona y Palma de _____, junto a edificios civiles como ayuntamientos, lonjas y _____. En Castilla el edificio más importante es la catedral de _____. En escultura son notables los retablos y monumentos _____ (tumbas), mientras que la pintura recibe la influencia de los primitivos flamencos. Junto a la arquitectura gótica hay que destacar la arquitectura _____, caracterizada por el empleo de elementos de la arquitectura _____ en la construcción de _____.

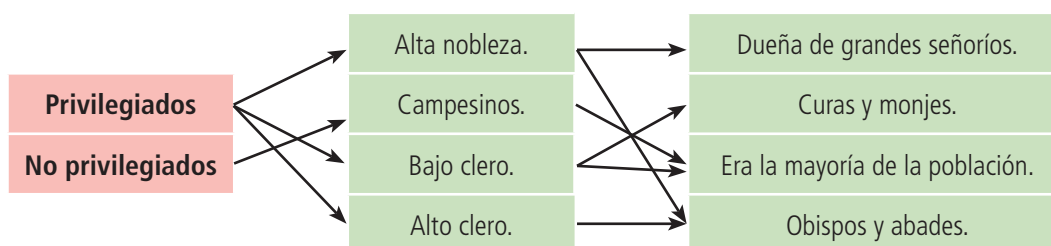
Solucionario

- ¿De qué reino cristiano estamos hablando? Lee las siguientes frases y escribe a qué reino se refieren:
 - Castilla.
 - Condados catalanes.
 - Reino de Aragón.
 - Reino de Navarra.
- Observa los mapas de la evolución de los reinos cristianos y contesta a las preguntas:
 - Califato de Córdoba. Cinco. Reino de León.
 - Se ha dividido en reinos de taifas. Castilla y León.
 - Reino de Castilla y León. Ha desaparecido.
 - Los almorávides. Reino de Portugal.
- Completa las siguientes afirmaciones:
 - Invadieron, refugiaron, norte.
 - Asturianos, Covadonga.
 - Vascones, francos.
 - Aragoneses, Navarra.
- Escribe un texto de tres o cuatro líneas sobre la evolución de los reinos cristianos.
Respuesta abierta.
- Construye una frase con cada una de estas palabras: reino, batalla, frontera e independencia.
Respuesta abierta.

- Completa la siguiente tabla sobre las características económicas de los reinos cristianos:

	Economía de los reinos cristianos
Agricultura	Utilizaban técnicas y herramientas muy antiguas, practicando tanto una agricultura de secano como una de regadío.
Ganadería	Ganado ovino, vacuno y porcino, utilizándose como fuerza de trabajo y para la obtención de carne y lana.
Comercio	Reducido a intercambios locales o comarcales, realizado muchas veces en forma de trueque.

- Relaciona los conceptos de estas columnas:



8. Indica la palabra que sobra en cada caso:

- a) Feudo.
- b) Pórtico.
- c) Rey.

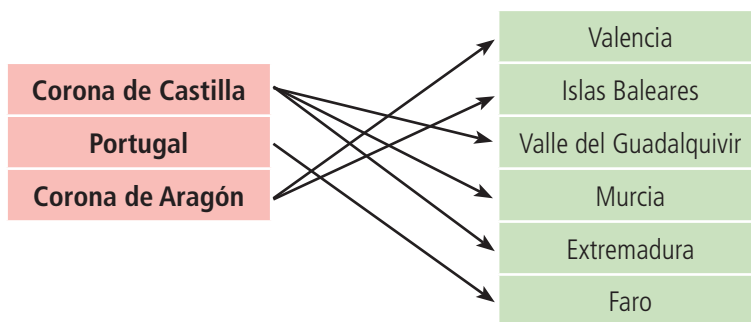
9. Elige la opción correcta:

- a) Los territorios cristianos eran gobernados por condes o: b.
- b) La sociedad era de tipo: a.
- c) La principal unidad de producción era: c.
- d) A partir del siglo XI la repoblación fue: a.

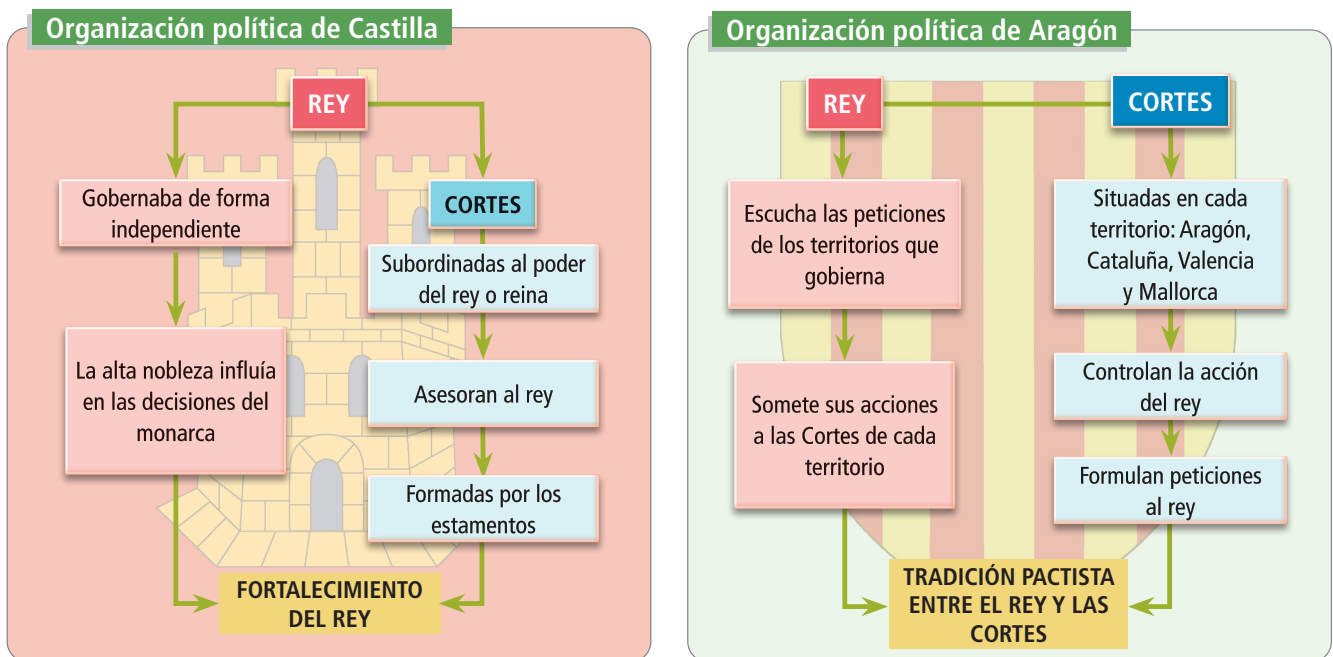
10. Ordena estas frases para que tengan sentido:

- a) Los privilegiados eran el grupo minoritario.
- b) La agricultura utilizaba técnicas y herramientas antiguas.
- c) Los reyes dividían los territorios ocupados en concejos.

11. Une los siguientes territorios con las Coronas que los conquistaron:



12. Completa el siguiente esquema sobre las características de la organización política de las Coronas de Castilla y Aragón durante la Baja Edad Media:



13. Observa el mapa sobre las repoblaciones y contesta a las preguntas:

- a) Lisboa, Córdoba, Mérida, Ciudad Real y Tortosa.
- b) Cádiz, Sevilla, Jaén, Murcia, Valencia y Palma.

14. Elige la opción correcta en cada caso:

- a) Los reyes taifas solicitaron ayuda a los: b.
- b) Las órdenes militares recibieron grandes cantidades de tierras en: a.
- c) La economía de los reinos cristianos mejoró gracias a las conquistas del siglo: c.
- d) La pequeña nobleza estaba formada por: b.

15. Define los siguientes términos: parias, taifas, repartimientos, repoblación.

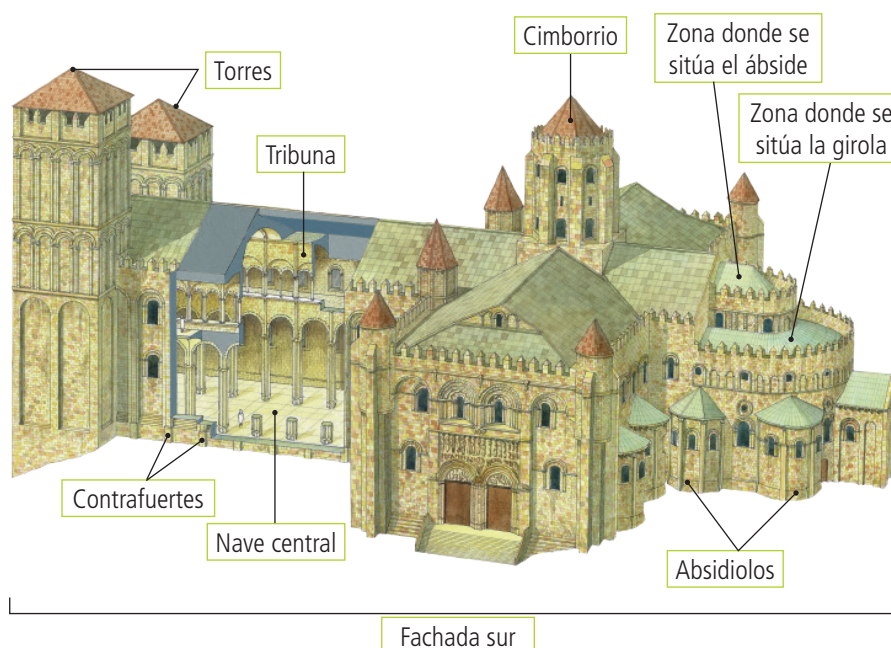
Parias: impuestos que pagaban los reinos de taifas a los cristianos.

Taifas: pequeños reinos en los que se dividió el califato de Córdoba tras su desaparición.

Repartimientos: sistema de reparto de tierras entre los repobladores.

Repoblación: ocupación de los territorios que habían sido conquistados a los musulmanes.

16. Escribe sobre la ilustración de la catedral de Santiago de Compostela el nombre de los diferentes elementos románicos:



17. Completa el siguiente texto sobre el arte gótico:

El arte **gótico** alcanzó un gran desarrollo en estos siglos en ambas coronas. En Aragón destacan las **catedrales** de Barcelona y Palma de **Mallorca**, junto a edificios civiles como ayuntamientos, lonjas y **palacios**. En Castilla el edificio más importante es la catedral de **Sevilla**. En escultura son notables los retablos y monumentos **funerarios** (tumbas), mientras que la pintura recibe la influencia de los primitivos flamencos. Junto a la arquitectura gótica hay que destacar la arquitectura **mudéjar**, caracterizada por el empleo de elementos de la arquitectura **islámica** en la construcción de **edificios**.