

Unidad 2

La ciudad y el mundo urbano



1. LA ESTRUCTURA INTERNA DE LAS CIUDADES

Las ciudades presentan una división interior que viene definida por los **diferentes usos del suelo**. Aunque cada ciudad es diferente, normalmente encontramos sectores comunes, como son el **centro**, las **zonas residenciales** y la **periferia**.

1.1. El centro de la ciudad

En esta zona encontramos el **casco antiguo o histórico**, que es la parte más antigua, donde se concentra un gran número de turistas.

La **zona de negocios**, donde están las actividades económicas de las grandes empresas y sedes de las administraciones públicas (ayuntamientos, parlamentos, ministerios, etc.).

Los **locales destinados a cultura y ocio**, que se distribuyen por el casco antiguo y su periferia.

El **centro se encuentra muy bien comunicado** y presenta un elevado tráfico de vehículos y de personas. En algunas ciudades modernas, la escasez de suelo ha supuesto la construcción de edificios de altura cada vez mayor o rascacielos.

1.2. Las zonas residenciales

Se distribuyen por toda la ciudad. Las **viviendas** ocupan la mayor parte de su suelo urbano, pero también hay pequeños **comercios** y **áreas de ocio y servicios**, como centros comerciales, colegios o centros de salud.

1.3. La periferia

Es la zona más alejada del centro urbano y en ella se produce una variedad de actividades y funciones del suelo urbano, que se caracteriza por concentrar las **grandes industrias** (polígonos industriales) y **centros comerciales y de ocio**.



1. Relaciona los conceptos de ambas columnas:

Centro
Zonas residenciales
Periferia

Es la zona más alejada del centro urbano.
Aquí encontramos el casco antiguo.
Las viviendas ocupan la mayor parte de su suelo.

2. Indica si las siguientes afirmaciones son verdaderas o falsas:

	V	F
a) El centro de la ciudad no está bien comunicado.		
b) Los polígonos industriales se sitúan en el centro de las ciudades.		
c) Los locales destinados a cultura y ocio se distribuyen por el casco antiguo y su periferia.		
d) La periferia es la zona más alejada del centro urbano.		

Modelos de ciudades

La **ciudad africana**. Al norte del continente encontramos la ciudad islámica con centro histórico, barrios residenciales y CBD; al sur del Sáhara, megaciudades con barrios similares a los de la ciudad occidental frente a inmensos barrios de infraviviendas.



Ciudad de Lagos (Nigeria).

La **ciudad norteamericana** no tiene casco histórico, por lo que los altos edificios colman el centro de los núcleos urbanos, distribuyéndose en la periferia los barrios de clase media con zonas ajardinadas y los suburbios.



San Francisco (Estados Unidos).

La **ciudad europea** presenta tres zonas: el casco antiguo, las expansiones del siglo XIX, ya sean zonas burguesas o barrios obreros, y la periferia.



Nantes (Francia).

Las **ciudades latinoamericanas** presentan profundos contrastes entre un centro histórico de pasado colonial, cercano a modernos edificios, y una periferia anárquica, carente de servicios, donde se hacina la población más pobre en infraviviendas como chabolas, favelas (en Brasil), etcétera.



La Paz (Bolivia).

Actividades



3. Completa las siguientes afirmaciones:

- La _____ de suelo ha supuesto la construcción de _____ de altura cada vez mayor o _____.
- La periferia se caracteriza por _____ las grandes _____, centros _____ y de ocio.
- Las ciudades presentan una _____ interior que viene definida por los diferentes usos del _____.

4. Observa las fotografías donde aparecen ciudades europeas y americanas. ¿Qué diferencias existen entre las ciudades europeas y americanas?

5. Realiza una redacción de tres o cuatro líneas en la que describas tu ciudad o localidad donde vives.

2. EL PROCESO DE URBANIZACIÓN

El proceso de formación de las ciudades es el resultado de una **evolución histórica** generada por diferentes factores y elementos. Podemos considerar tres etapas:

2.1. La ciudad preindustrial

Las primeras ciudades surgen en **Mesopotamia y Egipto**. Se construyen alrededor de los templos y palacios.

La difusión de la ciudad se produjo durante la **época clásica** (Grecia y Roma). Las ciudades se extienden por Europa y el Mediterráneo. Aparecen nuevos edificios públicos como teatros, estadios, acueductos (construcción de piedra y arcos, cuya función era proporcionar agua a las ciudades) o **baños públicos**.

En la **época medieval** la expansión de la ciudad se paralizó en un primer momento. A partir de los siglos XIII y XIV las ciudades recuperaron su función artesanal y comercial. Los núcleos urbanos se definen por la existencia de murallas.

El crecimiento de las ciudades en la **Edad Moderna** supuso un aumento de la población. Las ciudades se modernizan y embellecen.



En Ávila, la muralla medieval delimita con claridad el núcleo urbano de la ciudad preindustrial.

2.2. La ciudad industrial

El crecimiento de las ciudades en esta época es el resultado de las transformaciones producidas por la **Revolución Industrial**. Se multiplica la población debido a la disminución de la mortalidad y la llegada de población de las zonas rurales. Se produce la separación entre **barrios de los obreros** (trabajadores de las industrias) y los **burgueses** (empresarios y propietarios de las industrias).



Barrio obrero en Mánchester (1870).

2.3. La ciudad posindustrial

En la ciudad actual las actividades del **sector servicios** (sanidad, educación, hostelería, etc.) son las más importantes. Gracias a los avances de los medios de transportes (coches, trenes, autobuses, etc.) la ciudad ha aumentado su tamaño.

Actividades

6. Elige la palabra o palabras que sobran:

- a) Mesopotamia, Egipto, industrial, Grecia.
- b) Revolución, sanidad, obrero, burgueses.
- c) Medieval, coches, trenes, autobuses.

7. Relaciona los conceptos de ambas columnas:

Ciudad preindustrial

Ciudad industrial

Ciudad posindustrial

Las actividades del sector servicios son las más importantes.

Se multiplica la población gracias a la disminución de la mortalidad.

Se produce la separación entre barrios obreros y burgueses.

Se construían alrededor de templos y palacios.

En la época medieval se paralizó en un primer momento el crecimiento de las ciudades.

La ciudad ha aumentado su tamaño gracias a los avances de los medios de transporte.

8. Realiza un dibujo de una ciudad medieval con la ayuda de la fotografía de Ávila.

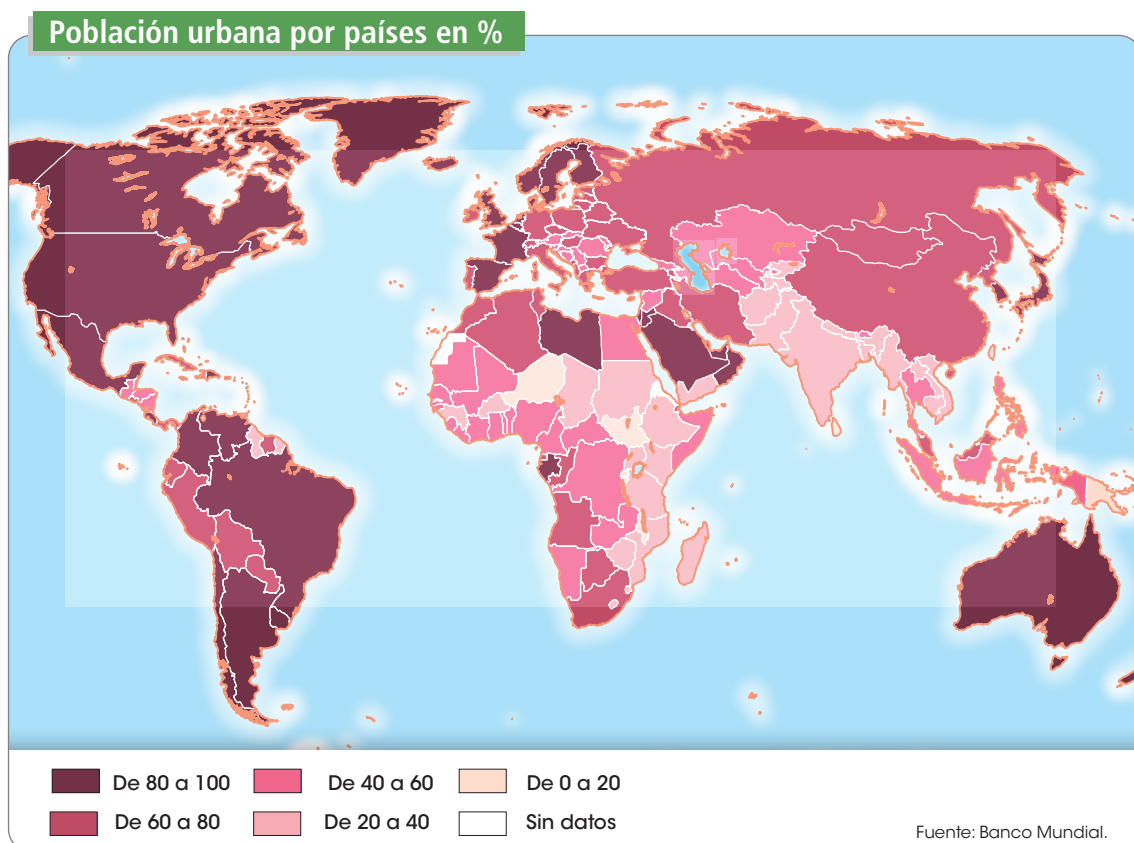
9. Realiza una redacción de tres o cuatro líneas donde establezcas las diferencias entre las ciudades actuales y las que existían en la época preindustrial.

10. Construye una frase con cada una de estas palabras: templo, acueducto, mortalidad, servicios.

3. ÁREAS URBANAS DEL MUNDO

Actualmente más de la mitad de la población mundial vive en ciudades. Norteamérica es la zona más urbanizada del planeta. **África** es la que tiene menos población urbana.

Megalópolis mundiales		
Ciudad principal	Hab. en mill.	Composición
Cantón	46,7	Dongguan, Foshán, Shenzhen, Zhongshán, Macao y Hong Kong
Tokio	40,4	Kawasaki, Maebashi, Sagamihara, Saitama, Utsonomiya y Yokohama
Shanghái	33,6	Changzhou, Suzhou y Wuxi
Yakarta	31,3	Bekasi, Bogor, Depok, Tangerang y Tangerang del Sur
Delhi	30,3	Faridabad, Ghaziabad y Gurgaon
Manila	25,7	Caloocan y Ciudad Quezón
Bombay	25,1	Bhiwandi, Kalyan, Thane, Ulhasnagar y Vasai-Virar
Seúl	24,8	Bucheon, Goyang, Incheon, Seongnam y Suwon
Ciudad de México	23	Nezahualcóyotl, Ecatepec y Naucalpan
São Paulo	22,4	Guarulhus



3.1. Ciudades de los países más desarrollados

Las ciudades de los países más desarrollados han experimentado un crecimiento muy importante:

- ➔ En **Europa** el centro de las ciudades se corresponde con la ciudad antigua, donde están los monumentos históricos. En estas zonas predominan los servicios.



- ➔ En **Estados Unidos y Canadá** la mayoría de las ciudades se desarrollaron en la Revolución Industrial, por lo que tienen una corta historia. Ocupan grandes extensiones de terreno.



3.2. Ciudades de los países menos desarrollados

Estas ciudades **suelen presentar grandes diferencias**. Su crecimiento suele ser desordenado y muy rápido. Son frecuentes las **construcciones espontáneas** realizadas con materiales de desecho, sin agua corriente, electricidad, red de evacuación de aguas residuales, etc.



Río de Janeiro (Brasil).

Actividades

11. Observa el mapa sobre población y áreas urbanas y con la ayuda de un mapa-mundi político realiza las siguientes actividades:
 - a) Indica cinco países con un porcentaje de población urbana entre el 80 y el 100 %.
 - b) Indica cinco países con un porcentaje de población urbana entre el 0 y el 20 %.
12. Observa la tabla sobre las 10 megalópolis mundiales más importantes:
 - a) ¿Cuáles son las cinco ciudades más grandes del mundo?
 - b) ¿En qué continentes se sitúa cada una de ellas?
 - c) ¿Cuánta población suman entre las cinco?
13. Observa las fotografías de Río de Janeiro y Nueva York. Indica tres diferencias entre las dos:
14. Ordena las letras de estas palabras: ancdaa, eatacirmeon, sreslaudie, adaruibzna.
15. Relaciona los conceptos de ambas columnas:

Ciudades de los países
más desarrollados

Ciudades de los países
menos desarrollados

Son frecuentes las construcciones espontáneas.

Su crecimiento suele ser desordenado y muy rápido.

El centro se corresponde con la ciudad antigua.

La mayoría de las ciudades se desarrollaron en la Revolución Industrial.

4. ÁREAS URBANAS DE EUROPA

El **poblamiento urbano europeo** engloba a cerca de un 75 % de la población del continente. Su sistema urbano destaca por el **predominio de ciudades de pequeñas y medianas** dimensiones organizadas en torno a dos ejes:

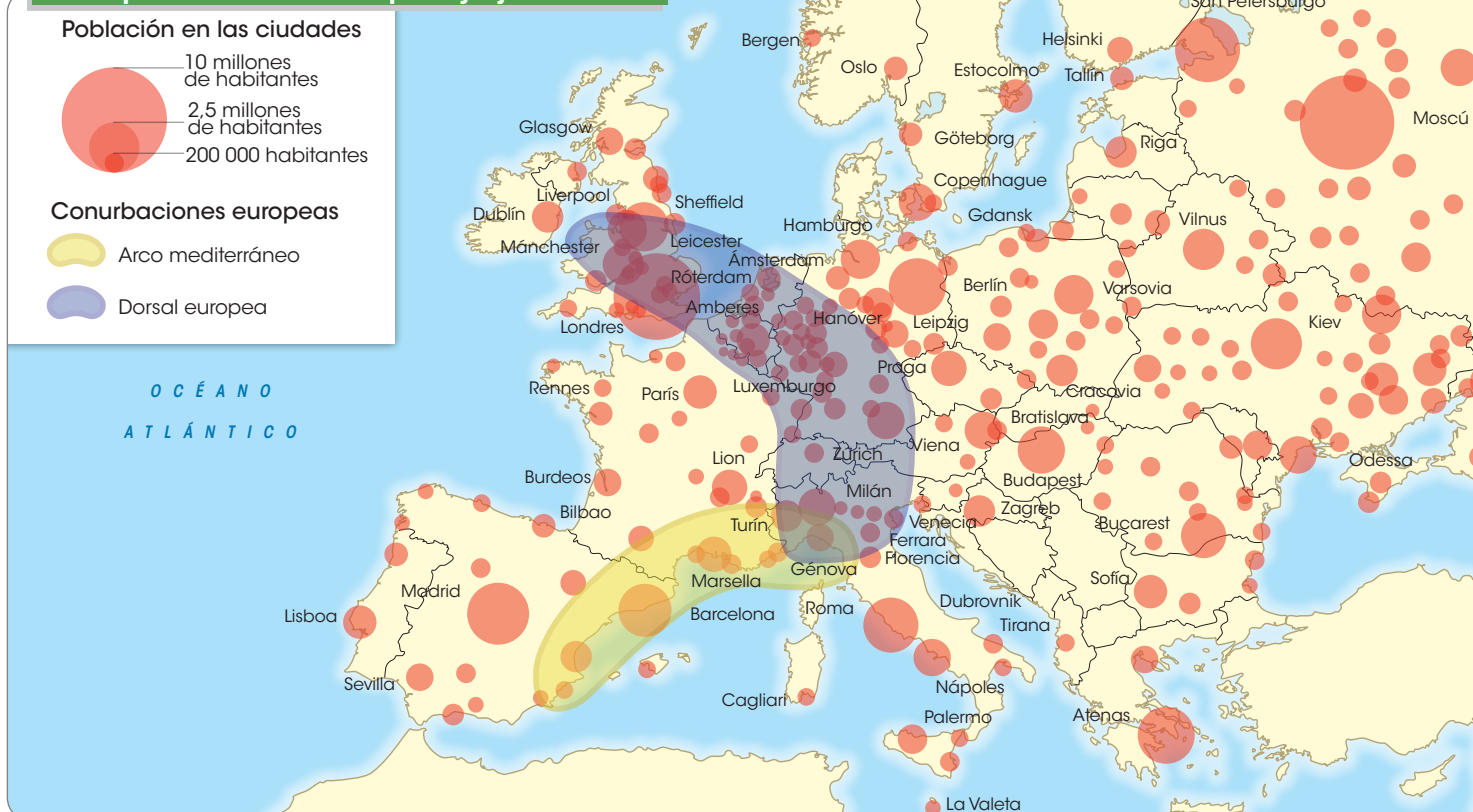
- ➔ Desde el sur de Reino Unido al norte de Italia.
- ➔ Desde el norte de Italia hasta el corazón mismo de la península ibérica.

En las últimas décadas se han ido originando importantes **áreas metropolitanas**, que han dado lugar a **procesos de conurbación o fusión**; por ejemplo las regiones urbanas de Rin-Ruhr, en Alemania; la de Randstad, en los Países Bajos; o la de Mánchester-Liverpool, en Reino Unido.

Europa posee una **jerarquía urbana**, con ciudades organizadas según su tamaño e influencia económica y política, e interconectadas las unas con las otras por medio de una serie de relaciones:

- ➔ **Grandes megalópolis mundiales** con predominio de actividades en el sector terciario y una capacidad de influencia política y económica a escala mundial, como Londres, Fráncfort, Ámsterdam-Randstad y París.
- ➔ **Megalópolis regionales** o estatales con influencia meramente estatal, donde destacan capitales como Moscú, Roma, Madrid, Milán, etc., y otras ciudades regionales.
- ➔ **Ciudades medias**, especializadas en determinadas actividades económicas como Liverpool, Colonia, Zaragoza, Toulouse, etc.
- ➔ **Ciudades menores** que ejercen su influencia sobre el territorio más próximo, como es el caso de las ciudades de Dover, Lieja, Kiel, etc.

Principales ciudades europeas y ejes urbanos



5. LAS CIUDADES EN ESPAÑA Y ANDALUCÍA

5.1. El poblamiento urbano en España

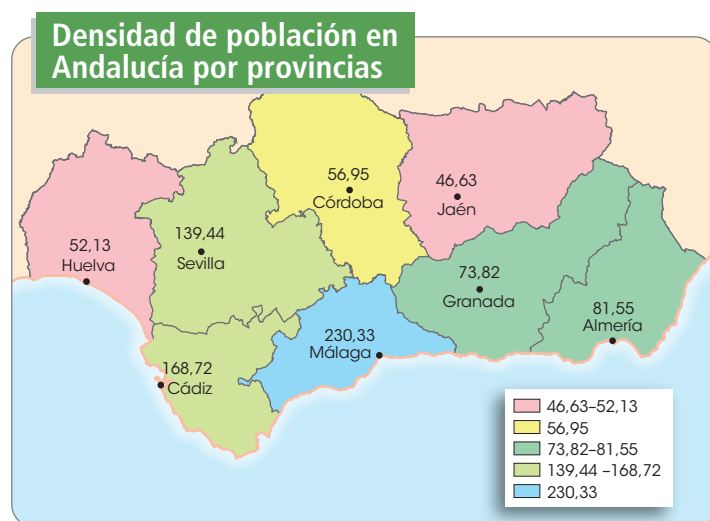
Las **ciudades españolas** se han convertido en ciudades en las que se **prestan muchos servicios** (comercio, turismo, transporte, etc.). Las mayores ciudades son **Madrid** y **Barcelona**. Alrededor de las ciudades se organiza el territorio que concentra una gran cantidad de servicios y funciones especializadas, políticas y económicas, culturales o sanitarias.



5.2. El poblamiento urbano en Andalucía

Las **principales ciudades andaluzas** se asentaron en el **valle del Guadalquivir**, desde donde se conectan con el centro peninsular, destacando **Córdoba** y **Sevilla**. Las ciudades más importantes son **Sevilla** y **Málaga**, tanto por su población como por ser sedes de numerosas actividades económicas.

La **población andaluza** se asienta en mayor medida en las zonas costeras y en el valle del Guadalquivir, sobre todo en núcleos de población urbanos. El poblamiento rural tiende a ser de tipo concentrado, es decir, se asienta en núcleos de población grandes separados entre sí.



Actividades



- 16.** Observa el mapa sobre la red de ciudades en España y contesta a las preguntas:
- Indica cuáles son las metrópolis nacionales.
 - Enumera cuáles son las metrópolis regionales.
 - Enumera cinco ciudades medias. ¿Cuáles son andaluzas?
- 17.** Observa el mapa sobre la población de los municipios de Andalucía. ¿Cuáles son las provincias con más población?
- 18.** Completa las siguientes afirmaciones:
- Las ciudades _____ se han convertido en ciudades en las que se prestan muchos _____.
 - Las mayores ciudades españolas son _____ y _____.
 - Las principales ciudades andaluzas se asentaron en el valle del _____, desde donde se conectan con el centro _____.
 - La población _____ se asienta en mayor medida en las zonas _____ y en el _____ del Guadalquivir.
- 19.** Construye una frase con cada una de estas palabras: plano, saneamiento, población, rural.

6. EL MODELO DE ORGANIZACIÓN TERRITORIAL EN ESPAÑA Y ANDALUCÍA

El territorio español se organiza en municipios, provincias y comunidades autónomas.

- ➔ Los **municipios** son las divisiones territoriales y administrativas más pequeñas. El órgano de gobierno de un municipio es el ayuntamiento, integrado por los concejales y un alcalde.
- ➔ La **provincia** es un territorio que agrupa a varios municipios. En ella residen los órganos de gobierno provinciales y también los representantes del gobierno del Estado y la comunidad autónoma a la que pertenezca. La Administración provincial se gestiona mediante una Diputación provincial, compuesta por concejales elegidos por los ayuntamientos.
- ➔ Las **comunidades autónomas** son un conjunto de provincias con características históricas, culturales y económicas comunes, e instituciones propias y autónomas de gobierno. Actualmente, existen en España 17 comunidades autónomas.

6.1. La organización territorial de Andalucía



















Andalucía se organiza en **municipios** y **provincias**. Sigue la misma estructura de organización que el resto del territorio español. Se compone de **ocho provincias**: Huelva, Sevilla, Cádiz, Málaga, Córdoba, Granada, Jaén y Almería. La capital de la comunidad autónoma es la ciudad de Sevilla, mientras que las capitales de las provincias son las ciudades del mismo nombre que la provincia.



Actividades

20. Sitúa sobre un mapa mudo de España todas las provincias.

21. Relaciona cada bandera con su comunidad autónoma:

Comunidad/ciudad autónoma	Bandera	Comunidad/ciudad autónoma	
			
			
			
			
			
			
			
			
			
			

22. Coloca la definición correcta:

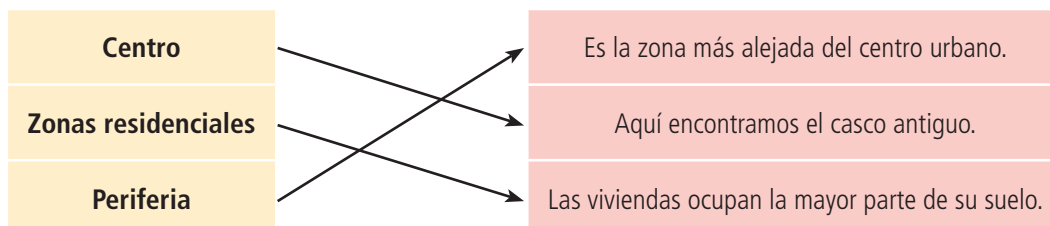
- a) Los _____ son las divisiones territoriales y administrativas más pequeñas.
- b) La _____ es un territorio que agrupa a varios municipios.
- c) Las _____ son un conjunto de provincias con características históricas, culturales y económicas comunes.

23. Enumera cuáles son las provincias andaluzas que tienen costa.

24. Enumera las provincias andaluzas que tienen frontera con el resto de España.

Solucionario

1. Relaciona los conceptos de ambas columnas:



2. Indica si las siguientes afirmaciones son verdaderas o falsas:

	V	F
a) El centro de la ciudad no está bien comunicado.		X
b) Los polígonos industriales se sitúan en el centro de las ciudades.		X
c) Los locales destinados a cultura y ocio se distribuyen por el casco antiguo y su periferia.	X	
d) La periferia es la zona más alejada del centro urbano.	X	

3. Completa las siguientes afirmaciones:

- a) Escasez, edificios, rascacielos.
- b) Concentrar, industrias, comerciales.
- c) División, suelo.

4. Observa las fotografías donde aparecen ciudades europeas y americanas. ¿Qué diferencias existen entre las ciudades europeas y americanas?

Los alumnos pueden enumerar las siguientes diferencias:

Las ciudades norteamericanas no tienen casco histórico y en la periferia se distribuyen los barrios de clase media con zonas ajardinadas y los suburbios.

Las ciudades latinoamericanas tienen un casco histórico de pasado colonial.

Las ciudades latinoamericanas tienen una periferia anárquica, carente de servicios.

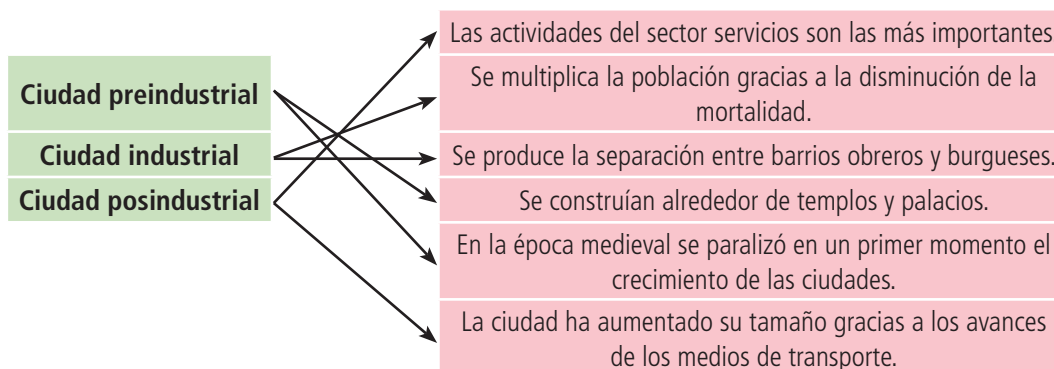
5. Realiza una redacción de tres o cuatro líneas en la que describas tu ciudad o localidad donde vives.

Respuesta abierta.

6. Elige la palabra o palabras que sobran:

- a) Industrial.
- b) Sanidad.
- c) Medieval.

7. Relaciona los conceptos de ambas columnas:



8. Realiza un dibujo de una ciudad medieval con la ayuda de la fotografía de Ávila.

El dibujo debería mostrar una ciudad pequeña, con calles estrechas y murallas.

9. Realiza una redacción de tres o cuatro líneas donde establezcas las diferencias entre las ciudades actuales y las que existían en la época preindustrial.

Respuesta abierta.

10. Construye una frase con cada una de estas palabras: templo, acueducto, mortalidad, servicios.

Respuesta abierta.

11. Observa el mapa sobre población y áreas urbanas y con la ayuda de un mapamundi político realiza las siguientes actividades:

- Indica cinco países con un porcentaje de población urbana entre el 80 y el 100 %. Puede mencionar países como Estados Unidos, Canadá, Brasil, Argentina, Chile, Reino Unido o Venezuela.
- Indica cinco países con un porcentaje de población urbana entre el 0 y el 20 %. Puede mencionar países como Níger, Sudán del Sur, Etiopía, Uganda o Papúa Nueva Guinea.

12. Observa la tabla sobre las 10 megalópolis mundiales más importantes:

- ¿Cuáles son las cinco ciudades más grandes del mundo? Tokio, Nueva Delhi, Shanghái, Ciudad de México y Sao Paulo.
- ¿En qué continentes se sitúa cada una de ellas? Las tres primeras en Asia, la cuarta y la quinta en América.
- ¿Cuánta población suman entre las cinco? 182,3 millones de habitantes.

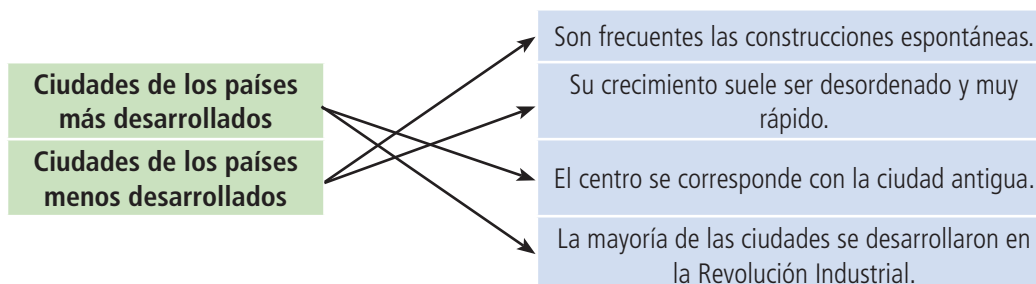
13. Observa las fotografías de Río de Janeiro y Nueva York. Indica tres diferencias entre las dos:

Las calles y edificios de Nueva York parecen más ordenados, más limpios y de nueva construcción, realizados con materiales de calidad, al contrario que en la zona de Río que se observa. Los edificios de Nueva York son rascacielos, a diferencia de las viviendas de Río que se observan en la imagen, que son favelas.

14. Ordena las letras de estas palabras: ancdaa, eatacirmeon, sreslaudie, adaruibzna.

Canadá, Norteamérica, residuales, urbanizada.

15. Relaciona los conceptos de ambas columnas:



16. Observa el mapa sobre la red de ciudades en España y contesta a las preguntas:

- Indica cuáles son las metrópolis nacionales. Madrid y Barcelona.
- Enumera cuáles son las metrópolis regionales. Sevilla, Málaga, Valencia, Palma, Zaragoza, Bilbao, La Coruña y Valladolid.
- Enumera cinco ciudades medias. ¿Cuáles son andaluzas? Córdoba y Granada (andaluzas), Murcia, Salamanca y Pamplona.

17. Observa el mapa sobre la población de los municipios de Andalucía. ¿Cuáles son las provincias con más población?

Sevilla, Málaga, Cádiz y Córdoba.

18. Completa las siguientes afirmaciones:

- Españolas, servicios.
- Madrid, Barcelona.
- Guadalquivir, peninsular.
- Andaluz, costeras, valle.














19. Construye una frase con cada una de estas palabras: plano, saneamiento, poblamiento, rural.

Respuesta abierta.

20. Sitúa sobre un mapa mudo de España todas las provincias.



21. Relaciona cada bandera con su comunidad autónoma:

Comunidad/ciudad autónoma	Bandera	Comunidad/ciudad autónoma	
Aragón		Asturias	
Baleares		Canarias	
Cantabria		Castilla-La Mancha	
Castilla y León		Cataluña	
Extremadura		C. Valenciana	
C. de Madrid		Galicia	
R. de Murcia		País Vasco	
La Rioja		C. F. Navarra	
C. A. de Ceuta		C. A. de Melilla	
Andalucía			

22. Coloca la definición correcta:

- a) Municipios.
- b) Provincia.
- c) Comunidades autónomas.

23. Enumera cuáles son las provincias andaluzas que tienen costa.

Huelva, Cádiz, Málaga, Granada y Almería.

24. Enumera las provincias andaluzas que tienen frontera con el resto de España.

Huelva, Sevilla, Córdoba, Jaén, Granada y Almería.