


Nombre y apellidos:

Curso:

Grupo:

Fecha:

1. Nombra cada uno de estos procesos científicos y ordénalos correctamente:



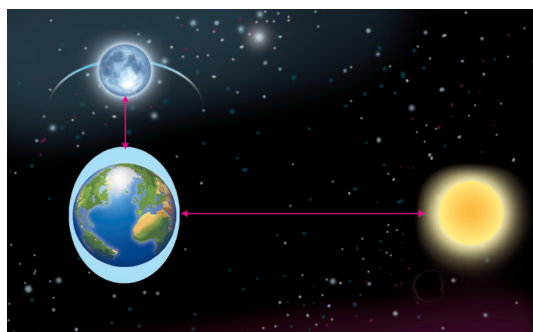
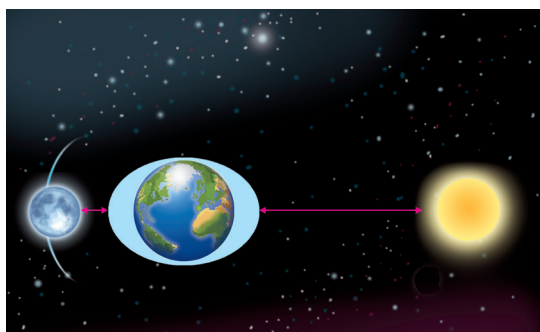
2. Relaciona mediante flechas los siguientes conceptos:

Sol
Tierra
Luna
Plutón
Halley

Cometa
Planetoide
Planeta
Satélite
Estrella

3. ¿Cuáles son los dos movimientos de la Tierra en el universo? Descríbelos.

4. Nombra cada uno de los siguientes tipos de mareas. Explica por qué se produce una marea.



5. Elabora un dibujo representativo de los dos tipos de eclipse que conozcas.

6. Completa la siguiente tabla definiendo cada concepto:

Concepto	Definición
Universo	
Galaxia	
Estrella	
Sistema solar	
Luna	